



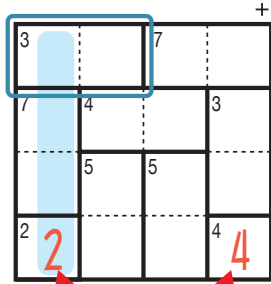
けん げん ロジ たし算 Lv3 (6)

なまえ
名前

あそび方

タテ・ヨコの列に1～4までの数字を一度ずつ使い、マスに数字をうめていくパズルです。
たし算をした答えが、ブロックの左上の数になるように、マスに数字を書きます。

れい例



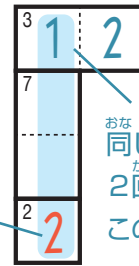
1マスだけのブロックは
ひだりうえ かず
左上の数をそのまま書く。

で囲んだブロックを解く場合、たすと3になるのは2と1だから、

3 2 1 か 3 1 2 になります。ここでは、左側タテの列の一番

したのマスで2がもう使われているので、
3 1 2 が正解です。

このマスで2が
つかわれている。



せいかい

おなじ列で、おなじ数字を
2回は使えないから、
このマスは1になる。

7	8		
2	1	3	4
3	2	7	6
4	3	1	2
8	4		
1	4	2	3

©Conceptis Puzzles

13010000105

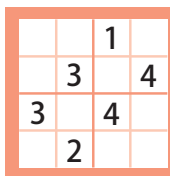
コンセプトス パズル

& ちびむすドリル コラボ企画

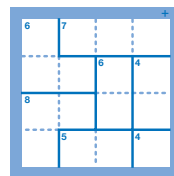
コンセプトスの算数パズル

世界一番人気のロジックパズルを無料ダウンロード。

小さな
お子さんにも!



ミニナブレ



検ロジ

コンセプトスの
パズルアプリを
チェックしよう!



四則演算が
楽しいパズルに!

