



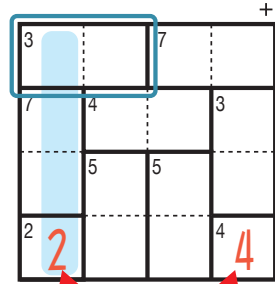
# けん げん ロジ たし算 Lv3 (7)

なまえ  
名前

あそび方

タテ・ヨコの列に1～4までの数字を一度ずつ使い、マスに数字をうめていくパズルです。  
たし算をした答えが、ブロックの左上の数になるように、マスに数字を書きます。

れい例



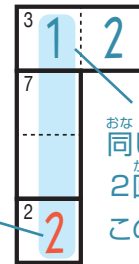
1マスだけのブロックは  
ひだりうえ かず  
左上の数をそのまま書く。

で囲んだブロックを解く場合、たすと3になるのは2と1だから、

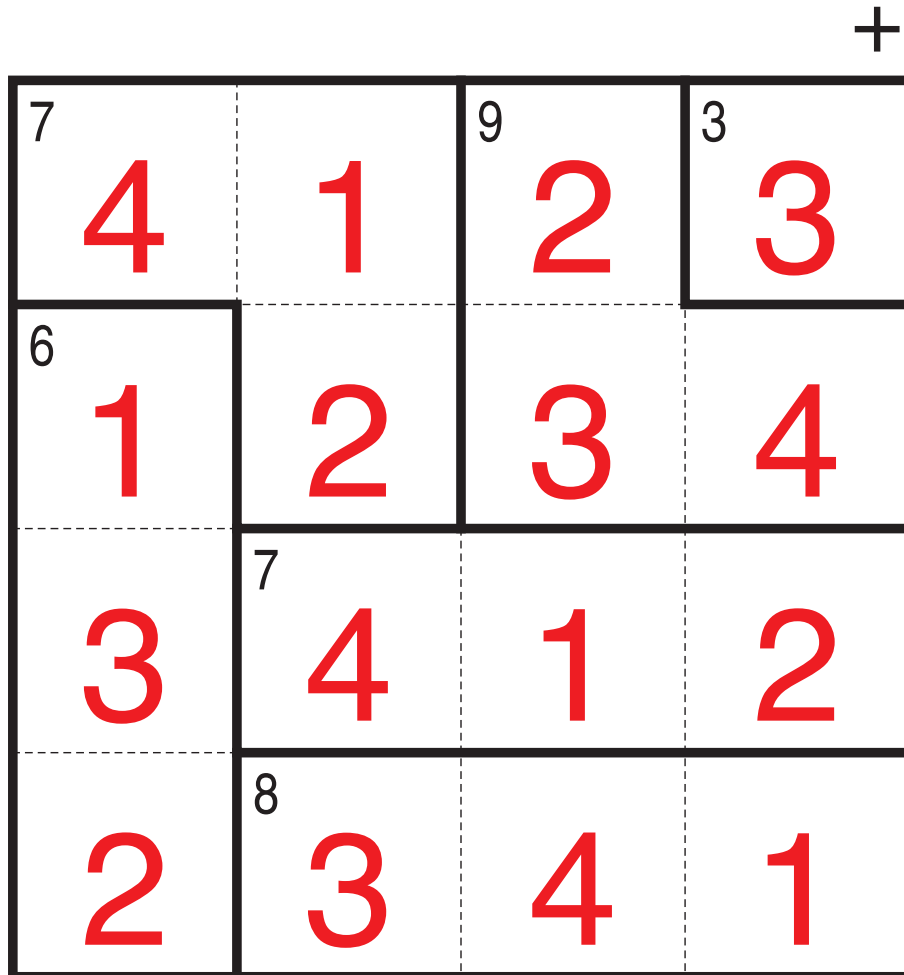
3 2 1 か 3 1 2 になります。ここでは、左側タテの列の一番

した下のマスで2がもう使われているので、  
3 1 2 が正解です。

このマスで2が  
つかわれている。



せいかい  
おな れつ おな すうじ  
同じ列で、同じ数字を  
かい つか  
2回は使えないから、  
このマスは1になる。



©Conceptis Puzzles

13010000106

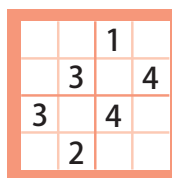
コンセプトス パズル

& ちびむすドリル コラボ企画

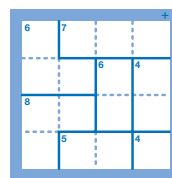
コンセプトスの算数パズル

世界一番人気のロジックパズルを無料ダウンロード。

小さな  
お子さんにも!



ミニナンプレ



検ロジ

コンセプトスの  
パズルアプリを  
チェックしよう!



四則演算が  
楽しいパズルに!

