

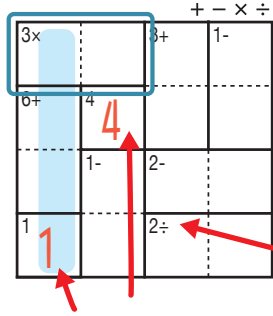
けん 検ロジ しそくざん レベル 四則算 Lv3 (6)

なまえ
名前

あそび方

タテ・ヨコの列に1~4までの数字を一度ずつ使い、マスに数字をうめていくパズルです。
四則算(たし算、ひき算、かけ算、わり算のどれか)の答えが、ブロックの左上の数になるように、マスに数字を書きます。

れい例

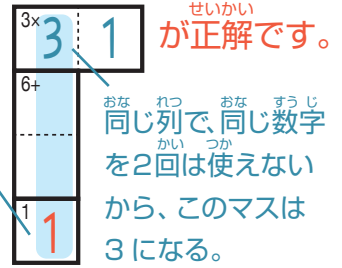


1マスだけのブロックは
左上の数をそのまま書く。

で囲んだブロックは、左上に「3×」とあるので、かけると答えが3になる数字、 3×1 か 1×3 が入ります。ここでは、左側タテの列の一番下のマスで1がもう使われているので、 3×1 が正解です。

左上に「2÷」とあるので、このブロックはわると答えが2になる数字が入る。他のブロックも同じように、左上の「+-x÷」の記号にしたがって計算する。

このマスで1が使われている。



+ - × ÷

1-	4×		5+
3	1	4	2
4	7+	1	3
2÷		8+	1
2	4	3	1
1	6×		
	3	2	4

©Conceptis Puzzles

13310000107

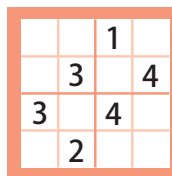
コンセプトス パズル

& ちびむすドリル コラボ企画

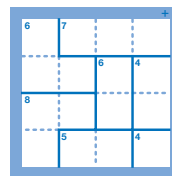
コンセプトスの算数パズル

世界一番人気のロジックパズルを無料ダウンロード。

小さな
お子さんにも!



ミニナブレ



検ロジ

コンセプトスの
パズルアプリを
チェックしよう!



四則演算が
楽しいパズルに!

