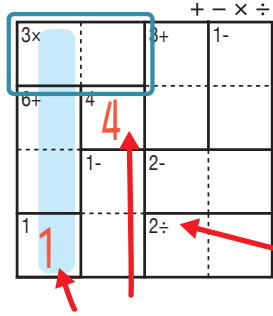


あそ び方

タテ・ヨコの列に1~4までの数字を一度ずつ使い、マスに数字をうめていくパズルです。
四則算(たし算、ひき算、かけ算、わり算のどれか)の答えが、ブロックの左上の数になるように、マスに数字を書きます。

れい 例

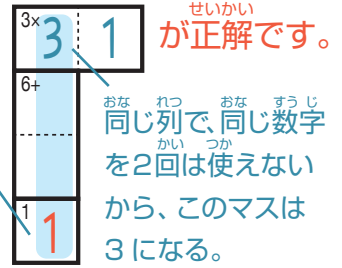


1マスだけのブロックは
左上の数をそのまま書く。

で囲んだブロックは、左上に「3×」とあるので、かけると答えが3になる数字、 3×1 か 1×3 が入ります。ここでは、左側タテの列の一番下のマスで1がもう使われているので、 3×1 が正解です。

左上に「2÷」とあるので、このブロックはわると答えが2になる数字が入る。他のブロックも同じように、左上の「+-x÷」の記号にしたがって計算する。

このマスで1が使われている。



+-x÷

2÷ 4	2 2	2- 1	6× 3
8+ 1	4	3	2
3	7+ 1	2	4
6× 2	3	5+ 4	1

©Conceptis Puzzles

13310000109

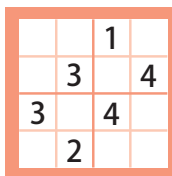
コンセプトス パズル

& ちびむすドリル コラボ企画

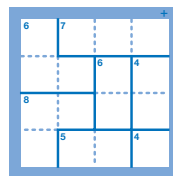
コンセプトスの算数パズル

世界一番人気のロジックパズルを無料ダウンロード。

小さな
お子さんにも!



ミニナンプレ



検ロジ

コンセプトスの
パズルアプリを
チェックしよう!



四則演算が
楽しいパズルに!

