



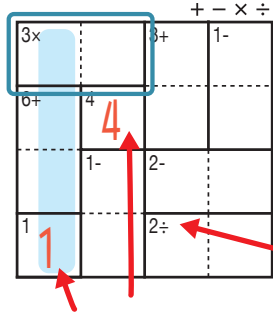
けん しそくざん レベル 検ロジ 四則算 Lv3(1)

なまえ
名前

あそび方

タテ・ヨコの列に1~4までの数字を一度ずつ使い、マスに数字をうめていくパズルです。
四則算(たし算、ひき算、かけ算、わり算のどれか)の答えが、ブロックの左上の数になるように、マスに数字を書きます。

れい例



1マスだけのブロックは
左上の数をそのまま書く。

で囲んだブロックは、左上に「3×」とあるので、かけると答えが3になる数字、 3×1 か 1×3 が入ります。ここでは、左側タテの列の一番下のマスで1がもう使われているので、 3×1 が正解です。

左上に「2÷」とあるので、このブロックは
わると答えが2になる数字が入る。
他のブロックと同じように、左上の「+-x÷」の記号にしたがって計算する。

このマス
で1が
使われて
いる。



同じ列で、同じ数字
を2回は使えない
から、このマスは
3になる。

+-x÷

6× 2	1- 1	8+ 3	4
3	2	3- 4	1
8+ 4	3	1	6× 2
1	2÷ 4	2	3

©Conceptis Puzzles

13310000102

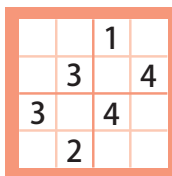
コンセプトス パズル

& ちびむすドリル コラボ企画

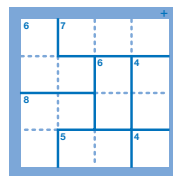
コンセプトスの算数パズル

世界一番人気のロジックパズルを無料ダウンロード。

小さな
お子さんにも!



ミニナンプレ



検ロジ

コンセプトスの
パズルアプリを
チェックしよう!



四則演算が
楽しいパズルに!



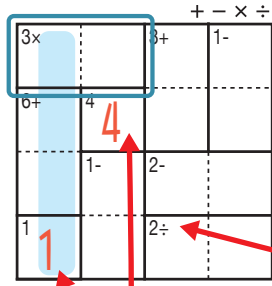
けん 検ロジ しそくざん レベル 四則算 Lv3 (2)

なまえ
名前

あそび方

タテ・ヨコの列に1~4までの数字を一度ずつ使い、マスに数字をうめていくパズルです。
四則算(たし算、ひき算、かけ算、わり算のどれか)の答えが、ブロックの左上の数になるように、マスに数字を書きます。

れい例



1マスだけのブロックは
左上の数をそのまま書く。

で囲んだブロックは、左上に「3×」とあるので、かけると答えが3になる数字、 3×1 か 1×3 が入ります。ここでは、左側タテの列の一番下のマスで1がもう使われているので、 3×1 が正解です。

左上に「2÷」とあるので、このブロックはわりと答えが2になる数字が入る。他のブロックも同じように、左上の「+-x÷」の記号にしたがって計算する。

このマスで1が使われている。



同じ列で、同じ数字を2回は使えないから、このマスは3になる。

+ - × ÷

12× 4	2- 2	6+ 3	1
3	4	2÷ 1	2
6+ 1	3	2	1- 4
2	4÷ 1	4	3

©Conceptis Puzzles

13310000103

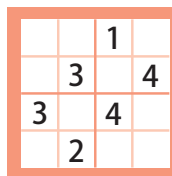
コンセプトス パズル

& ちびむすドリル コラボ企画

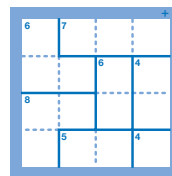
コンセプトスの算数パズル

世界一番人気のロジックパズルを無料ダウンロード。

小さな
お子さんにも!



ミニナブレ



検ロジ

コンセプトスの
パズルアプリを
チェックしよう!



四則演算が
楽しいパズルに!





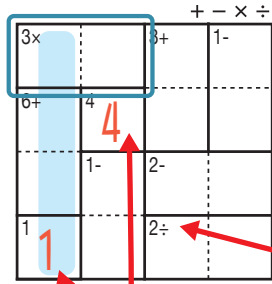
けん 検ロジ し そく ざん レベル 四則算 Lv3 (3)

なまえ
名前

あそ び方
遊び方

タテ・ヨコの列に1~4までの数字を一度ずつ使い、マスに数字をうめていくパズルです。
四則算(たし算、ひき算、かけ算、わり算のどれか)の答えが、ブロックの左上の数になるように、マスに数字を書きます。

れい 例
例



1マスだけのブロックは
左上の数をそのまま書く。

で囲んだブロックは、左上に「3×」とあるので、かけると答えが3になる数字、 3×1 か 1×3 が入ります。ここでは、左側タテの列の一番下のマスで1がもう使われているので、 3×1 が正解です。

左上に「2÷」とあるので、このブロックはわると答えが2になる数字が入る。他のブロックも同じように、左上の「+-x÷」の記号にしたがって計算する。

このマスで1が使われている。



同じ列で、同じ数字を2回は使えないから、このマスは3になる。

+ - × ÷

9+	2	4	3	1
3	2-	1	8+	4
4×	1	3	2	12×
4	2÷	2	1	3

©Conceptis Puzzles

13310000104

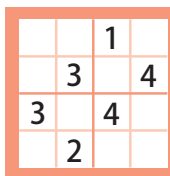
コンセプトス パズル

& ちびむすドリル コラボ企画

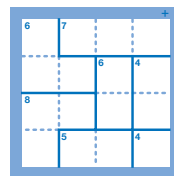
コンセプトスの算数パズル

世界一番人気のロジックパズルを無料ダウンロード。

小さな
お子さんにも!



ミニナブレ



検ロジ

コンセプトスの
パズルアプリを
チェックしよう!



四則演算が
楽しいパズルに!



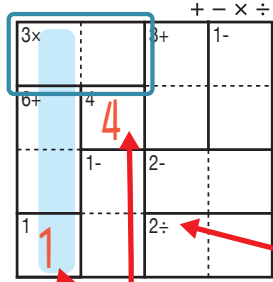
けん 検ロジ しそくざん レベル 四則算 Lv3 (4)

なまえ
名前

あそび方

タテ・ヨコの列に1~4までの数字を一度ずつ使い、マスに数字をうめていくパズルです。
四則算(たし算、ひき算、かけ算、わり算のどれか)の答えが、ブロックの左上の数になるように、マスに数字を書きます。

れい例

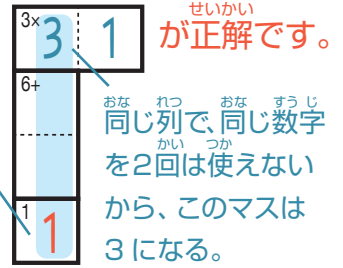


1マスだけのブロックは
左上の数をそのまま書く。

で囲んだブロックは、左上に「3×」とあるので、かけると答えが3になる数字、 3×1 か 1×3 が入ります。ここでは、左側タテの列の一番下のマスで1がもう使われているので、 3×1 が正解です。

左上に「2÷」とあるので、このブロックはわると答えが2になる数字が入る。他のブロックも同じように、左上の「+-x÷」の記号にしたがって計算する。

このマスで1が使われている。



+-x÷

2÷	1	2	3	4
1-	3	4	1	2
7+	4	1	2	3
	12×	3	4	1

©Conceptis Puzzles

13310000105

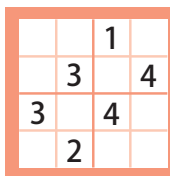
コンセプティス パズル

& ちびむすドリル コラボ企画

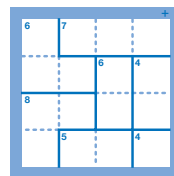
コンセプティスの算数パズル

世界一番人気のロジックパズルを無料ダウンロード。

小さな
お子さんにも!



ミニナンプレ



検ロジ

コンセプティスの
パズルアプリを
チェックしよう!



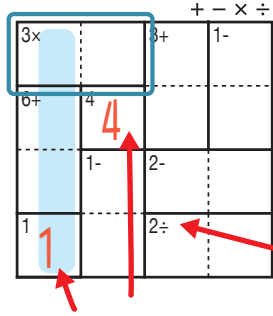
四則演算が
楽しいパズルに!



あそび方

タテ・ヨコの列に1~4までの数字を一度ずつ使い、マスに数字をうめていくパズルです。
四則算(たし算、ひき算、かけ算、わり算のどれか)の答えが、ブロックの左上の数になるように、マスに数字を書きます。

れい例



1マスだけのブロックは
左上の数をそのまま書く。

で囲んだブロックは、左上に「3×」とあるので、かけると答えが3になる数字、 3×1 か 1×3 が入ります。ここでは、左側タテの列の一番下のマスで1がもう使われているので、 3×1 が正解です。

左上に「2÷」とあるので、このブロックはわると答えが2になる数字が入る。他のブロックと同じように、左上の「+-x÷」の記号にしたがって計算する。

このマスで1が使われている。



同じ列で、同じ数字を2回は使えないから、このマスは3になる。

+-x÷

6+ 2	3	4÷ 4	1
1	1- 2	3	2÷ 4
12× 3	4× 4	6+ 1	2
4	1	2	3

©Conceptis Puzzles

13310000106

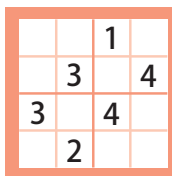
コンセプトス パズル

& ちびむすドリル コラボ企画

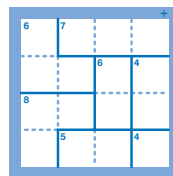
コンセプトスの算数パズル

世界一番人気のロジックパズルを無料ダウンロード。

小さな
お子さんにも!



ミニナンプレ



検ロジ

コンセプトスの
パズルアプリを
チェックしよう!



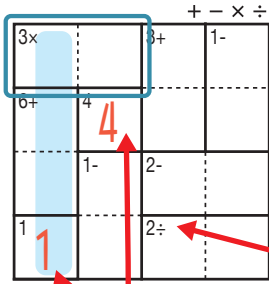
四則演算が
楽しいパズルに!



あそ び方

タテ・ヨコの列に1~4までの数字を一度ずつ使い、マスに数字をうめていくパズルです。
四則算(たし算、ひき算、かけ算、わり算のどれか)の答えが、ブロックの左上の数になるように、マスに数字を書きます。

れい 例

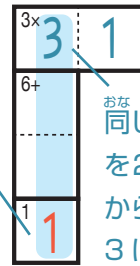


1マスだけのブロックは
左上の数そのまま書く。

で囲んだブロックは、左上に「3×」とあるので、かけると答えが3
になる数字、 3×1 か 1×3 が入ります。ここでは、左側タテの
列の一番下のマスで1がもう使われているので、 3×1 が正解です。

左上に「2÷」とあるので、このブロックは
わると答えが2になる数字が入る。
他のブロックも同じように、左上の
「+-×÷」の記号にしたがって計算する。

このマス
で1が
使われて
いる。



同じ列で、同じ数字
を2回は使えない
から、このマスは
3になる。

+-×÷

1-	4×		5+
3	1	4	2
4	7+		
	2	1	3
2÷		8+	
2	4	3	1
	6×		
1	3	2	4

©Conceptis Puzzles

13310000107

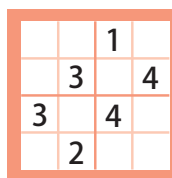
コンセプトス パズル

& ちびむすドリル コラボ企画

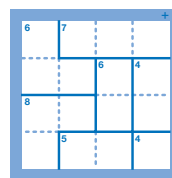
コンセプトスの算数パズル

世界一番人気のロジックパズルを無料ダウンロード。

小さな
お子さんにも!



ミニナブレ



検ロジ

コンセプトスの
パズルアプリを
チェックしよう!



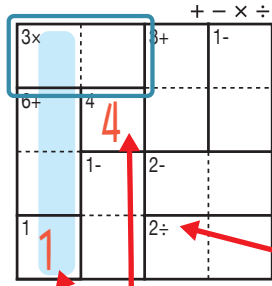
四則演算が
楽しいパズルに!



あそ び方

タテ・ヨコの列に1~4までの数字を一度ずつ使い、マスに数字をうめていくパズルです。
四則算(たし算、ひき算、かけ算、わり算のどれか)の答えが、ブロックの左上の数になるように、マスに数字を書きます。

れい 例

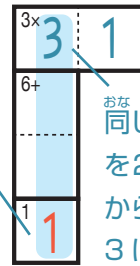


1マスだけのブロックは
左上の数をそのまま書く。

で囲んだブロックは、左上に「3×」とあるので、かけると答えが3になる数字、 3×1 か 1×3 が入ります。ここでは、左側タテの列の一番下のマスで1がもう使われているので、 3×1 が正解です。

左上に「2÷」とあるので、このブロックはわりと答えが2になる数字が入る。他のブロックも同じように、左上の「+-x÷」の記号にしたがって計算する。

このマスで1が使われている。



同じ列で、同じ数字を2回は使えないから、このマスは3になる。

+ - × ÷

9+	3	4	2÷	1	2	
4×	1	2	12×	3	4	
	4	2÷	1	2	8+	3
1-	2	3		4	1	

©Conceptis Puzzles

13310000108

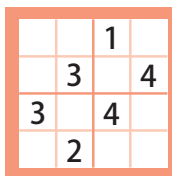
コンセプトス パズル

& ちびむすドリル コラボ企画

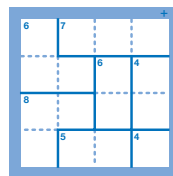
コンセプトスの算数パズル

世界一番人気のロジックパズルを無料ダウンロード。

小さな
お子さんにも!



ミニナブレ



検ロジ

コンセプトスの
パズルアプリを
チェックしよう!



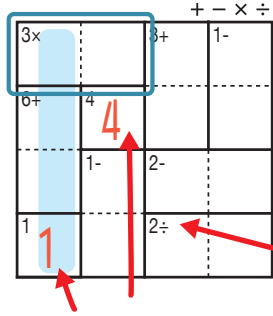
四則演算が
楽しいパズルに!



あそ び 方

タテ・ヨコの列に1~4までの数字を一度ずつ使い、マスに数字をうめていくパズルです。
四則算(たし算、ひき算、かけ算、わり算のどれか)の答えが、ブロックの左上の数になるように、マスに数字を書きます。

れい 例

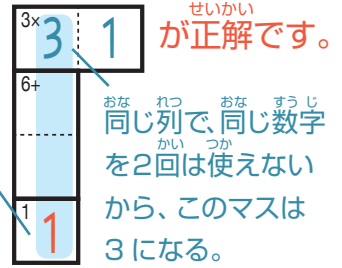


1マスだけのブロックは
左上の数をそのまま書く。

で囲んだブロックは、左上に「3×」とあるので、かけると答えが3になる数字、 3×1 か 1×3 が入ります。ここでは、左側タテの列の一番下のマスで1がもう使われているので、 3×1 が正解です。

左上に「2÷」とあるので、このブロックはわると答えが2になる数字が入る。他のブロックも同じように、左上の「+-×÷」の記号にしたがって計算する。

このマスで1が使われている。



+-×÷

2÷ 4	2 2	2- 1	6× 3
8+ 1	4 4	3 3	2 2
3 3	7+ 1	2 2	4 4
6× 2	3 3	5+ 4	1 1

©Conceptis Puzzles

13310000109

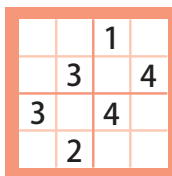
コンセプトス パズル

& ちびむすドリル コラボ企画

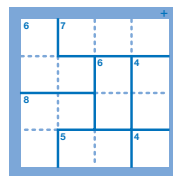
コンセプトスの算数パズル

世界一番人気のロジックパズルを無料ダウンロード。

小さな
お子さんにも!



ミニナンプレ



検ロジ

コンセプトスの
パズルアプリを
チェックしよう!



四則演算が
楽しいパズルに!



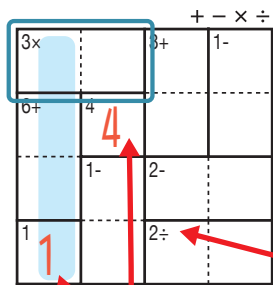
けん 検ロジ し そく ざん レベル 四則算 Lv3 (9)

なまえ
名前

あそ び方
遊び方

タテ・ヨコの列に1~4までの数字を一度ずつ使い、マスに数字をうめていくパズルです。
四則算(たし算、ひき算、かけ算、わり算のどれか)の答えが、ブロックの左上の数になるように、マスに数字を書きます。

れい 例
例



1マスだけのブロックは
左上の数をそのまま書く。

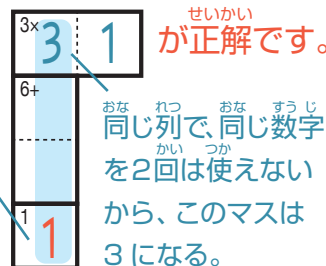
で囲んだブロックは、左上に「3×」とあるので、かけると答えが3

になる数字、 3×1 か 1×3 が入ります。ここでは、左側タテの

列の一番下のマスで1がもう使われているので、 3×1 が正解です。

左上に「2÷」とあるので、このブロックは
わると答えが2になる数字が入る。
他のブロックも同じように、左上の
「+ - × ÷」の記号にしたがって計算する。

このマス
で1が
使われて
いる。



同じ列で、同じ数字
を2回は使えない
から、このマスは
3になる。

+ - × ÷

1-	2	3	4	1		
4×	4	2÷	1	2	3	
	1	9+	2	12×	3	4
	3		4	1-	1	2

©Conceptis Puzzles

13310000110

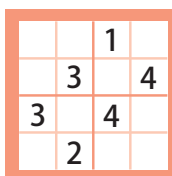
コンセプトス パズル

& ちびむすドリル コラボ企画

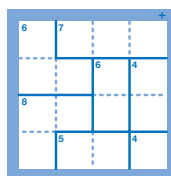
コンセプトスの算数パズル

世界一番人気のロジックパズルを無料ダウンロード。

小さな
お子さんにも!



ミニナンプレ



検ロジ

コンセプトスの
パズルアプリを
チェックしよう!



四則演算が
楽しいパズルに!





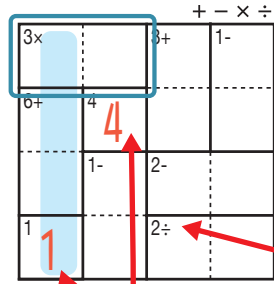
けん 検ロジ し そく ざん レベル 四則算 Lv3 (10)

なまえ
名前

あそび方

タテ・ヨコの列に1~4までの数字を一度ずつ使い、マスに数字をうめていくパズルです。
四則算(たし算、ひき算、かけ算、わり算のどれか)の答えが、ブロックの左上の数になるように、マスに数字を書きます。

れい例

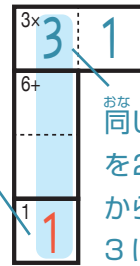


1マスだけのブロックは
左上の数をそのまま書く。

で囲んだブロックは、左上に「3×」とあるので、かけると答えが3になる数字、 3×1 か 1×3 が入ります。ここでは、左側タテの列の一番下のマスで1がもう使われているので、 3×1 が正解です。

左上に「2÷」とあるので、このブロックはわりと答えが2になる数字が入る。他のブロックと同じように、左上の「+-x÷」の記号にしたがって計算する。

このマスで1が使われている。



同じ列で、同じ数字を2回は使えないから、このマスは3になる。

+ - × ÷

3× 3	9+ 4	2÷ 1	2
1	2	3	9+ 4
7+ 2	3	4	1
4	1	1- 2	3

©Conceptis Puzzles

13310000111

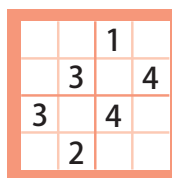
コンセプトス パズル

& ちびむすドリル コラボ企画

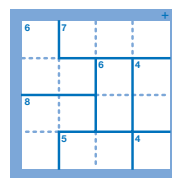
コンセプトスの算数パズル

世界一番人気のロジックパズルを無料ダウンロード。

小さな
お子さんにも!



ミニナブレ



検ロジ

コンセプトスの
パズルアプリを
チェックしよう!



四則演算が
楽しいパズルに!

