



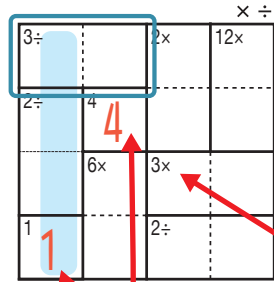
けん ざんアンド ざんレベル 検ロジかけ算&わり算Lv4(10)

なまえ
名前

おそ なた
遊び方

タテ・ヨコの列に1~4までの数字を一度ずつ使い、マスに数字をうめていくパズルです。
かけ算か、わり算をした答えが、ブロックの左上の数になるように、マスに数字を書きます。

れい
例



1マスだけのブロックは
ひだりうえ かず
左上の数をそのまま書く。

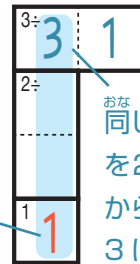
□で囲んだブロックは、ひだりうえ
左上に「3÷」とあるので、わると答えが3

になる数字、 $\begin{array}{|c|c|} \hline 3 & 1 \\ \hline \end{array}$ か $\begin{array}{|c|c|} \hline 1 & 3 \\ \hline \end{array}$ が入ります。ここでは、左側タテの

れつ いちばんした
列の一番下のマスで1がもう使われているので、 $\begin{array}{|c|c|} \hline 3 & 1 \\ \hline \end{array}$ が正解です。

ひだりうえ
左上に「3×」とあるので
このブロックはかけると答えが
3になる数字が入る。

このマスで1が
つか
使われている。



せいがい
おな れつ おな すうじ
同じ列で、同じ数字
を2回は使えない
から、このマスは
3になる。

× ÷

24× 1	3	2÷ 4	2
24× 3	4	2	1
2	1	36× 3	4
4	2÷ 2	1	3

©Conceptis Puzzles

13110000359

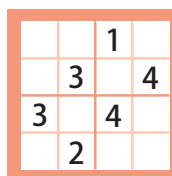
コンセプトス パズル

& ちびむすドリル コラボ企画

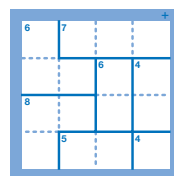
コンセプトスの算数パズル

世界一番人気のロジックパズルを無料ダウンロード。

小さな
お子さんにも!



ミニナンプレ



検ロジ

コンセプトスの
パズルアプリを
チェックしよう!



四則演算が
楽しいパズルに!

