



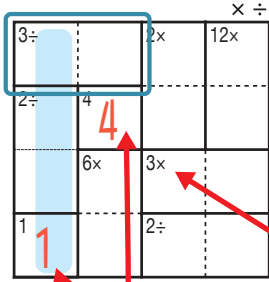
けん ざんアンド ざんレベル 検ロジかけ算&わり算Lv2(7)

なまえ
名前

あそび方

タテ・ヨコの列に1~4までの数字を一度ずつ使い、マスに数字をうめていくパズルです。かけ算か、わり算をした答えが、ブロックの左上の数になるように、マスに数字を書きます。

れい例



1マスだけのブロックはひだりうえかす左上の数をそのまま書く。

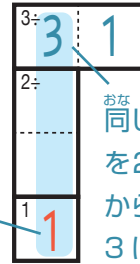
□で囲んだブロックは、ひだりうえ左上に「3÷」とあるので、わると答えが3

になる数字、 $\begin{matrix} 3 \\ 2 \end{matrix} \begin{matrix} 1 \\ 1 \end{matrix}$ か $\begin{matrix} 3 \\ 1 \end{matrix} \begin{matrix} 3 \\ 3 \end{matrix}$ が入ります。ここでは、左側タテの

れついちばんした列の一番下のマスで1がもう使われているので、 $\begin{matrix} 3 \\ 2 \end{matrix} \begin{matrix} 3 \\ 1 \end{matrix}$ が正解です。

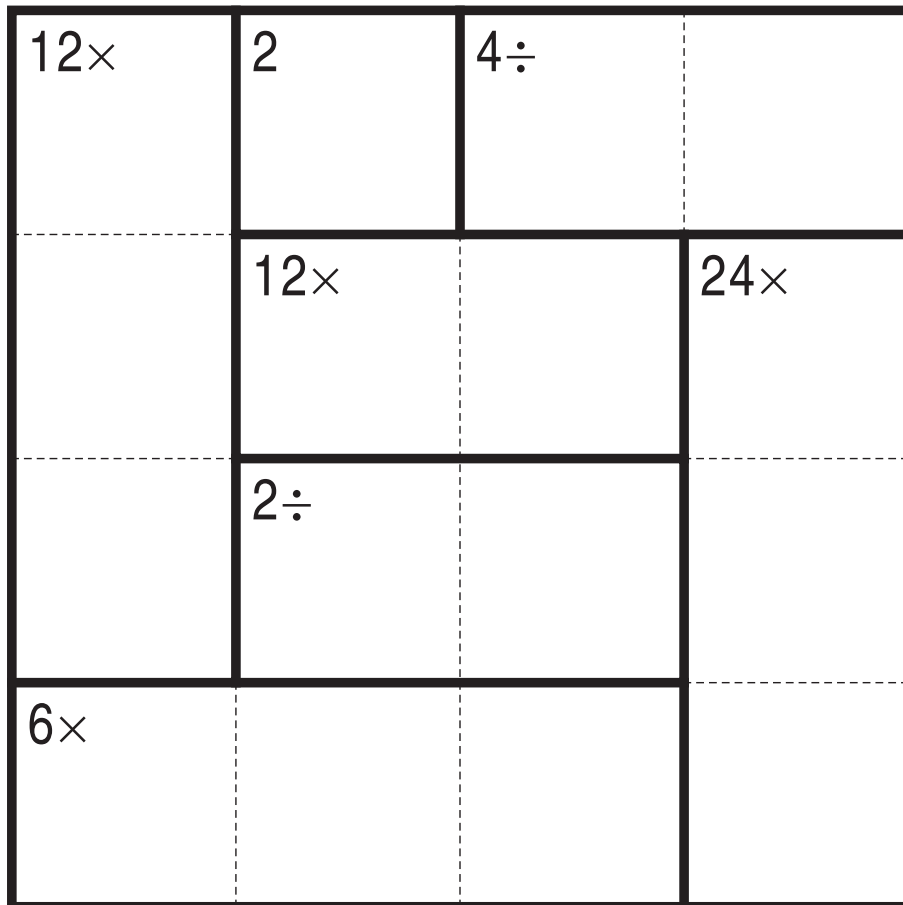
ひだりうえ左上に「3×」とあるのでこのブロックはかけると答えが3になる数字が入る。

このマスで1が使われている。



せいがいおなじ列で、おなじ数字を2回は使えないから、このマスは3になる。

× ÷



©Conceptis Puzzles

13110000256

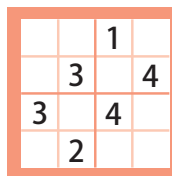
コンセプトス パズル

& ちびむすドリル コラボ企画

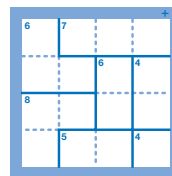
コンセプトスの算数パズル

世界一番人気のロジックパズルを無料ダウンロード。

小さな
お子さんにも!



ミニナンプレ



検ロジ

コンセプトスのパズルアプリをチェックしよう!



四則演算が
楽しいパズルに!

