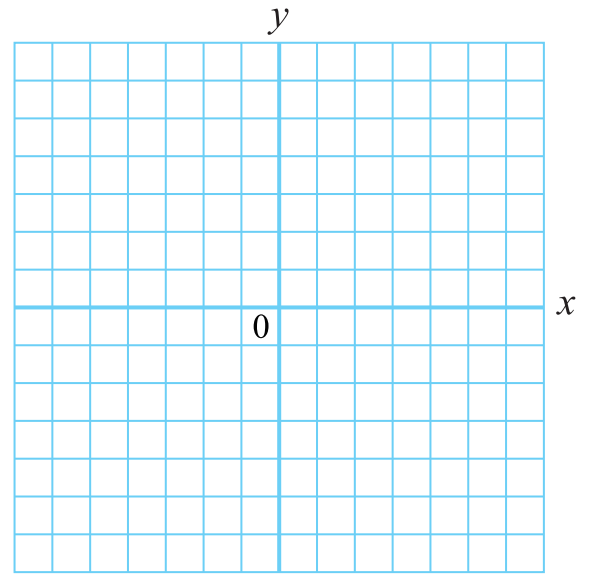


中学2年生の数学(4)

【1】 次の1次関数のグラフをかきなさい。

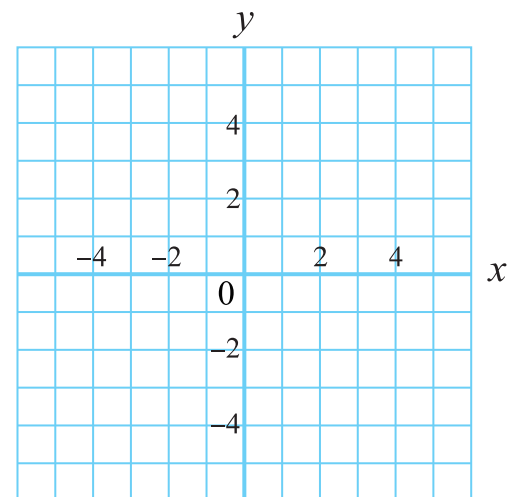
(1) $y = 2x + 2$ (2) $y = \frac{1}{3}x - 1$



【2】 次の方程式のグラフをかきなさい。

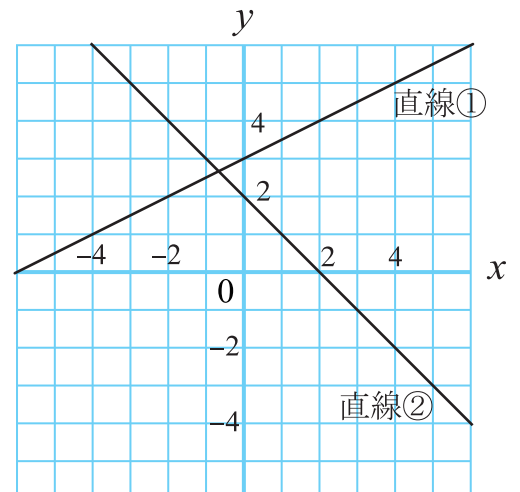
また、2つのグラフの交点の座標を答えなさい。

(1) $2x + y = 3$ (2) $x - 2y = 4$



答え _____

【3】 右の図の2直線の交点の座標を求めなさい。



答え _____