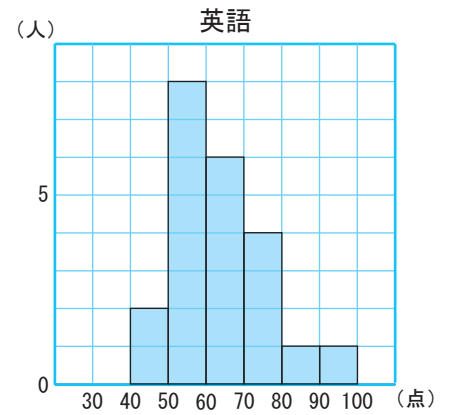
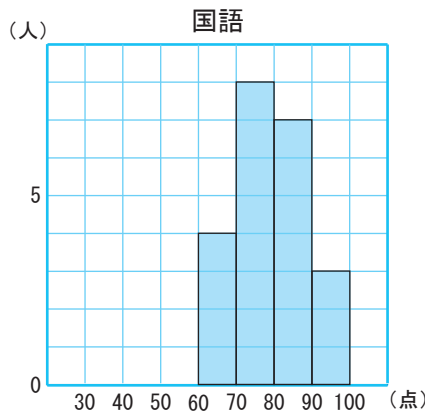
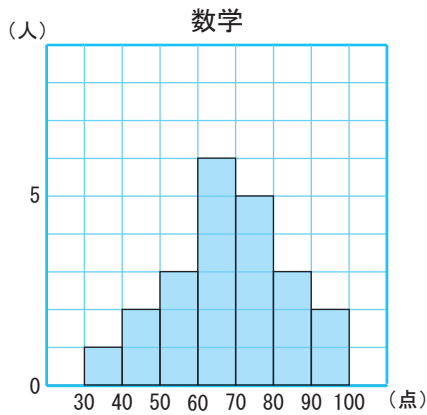




中学2年生の数学(8)

【1】次のヒストグラムは、あるクラスの生徒22人の数学、国語、英語のテストの得点のデータを表したものです。



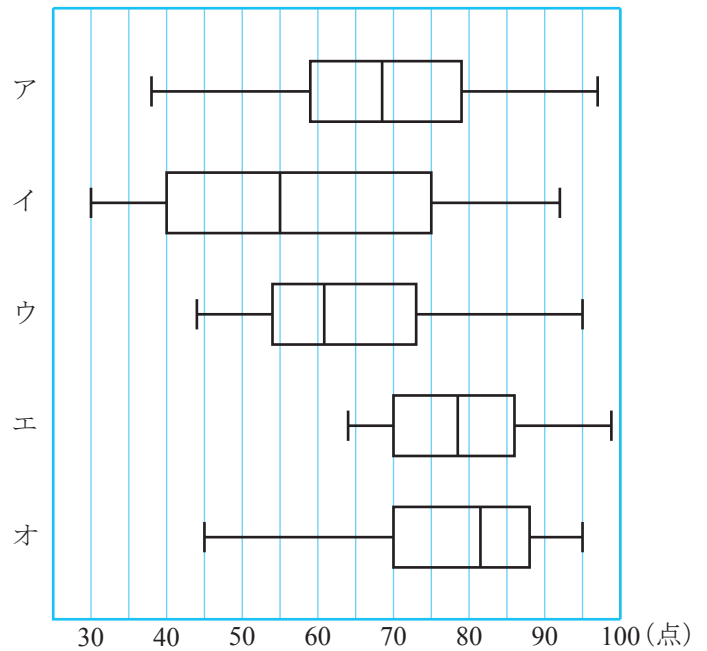
(1) 右のア～オの箱ひげ図から、各教科に対応するものを選び、記号で答えなさい。

数学 国語 英語

(2) ア～オの箱ひげ図の中で、次の①～⑤にあてはまるものを記号で答えなさい。

- ① 範囲がもっとも大きいもの 答え _____
- ② 四分位範囲がもっとも小さいもの 答え _____
- ③ 80点以上の生徒が半数以上いるもの 答え _____
- ④ 中央値がもっとも大きいもの 答え _____
- ⑤ 生徒全員が60点以上をとったもの 答え _____

クラス22人の5教科のテストの得点



【2】下の表は、あるクラスの生徒26人に10点満点の漢字テストを行った結果をまとめたものです。得点の中央値と四分位範囲を求めなさい。

得点(点)	0	1	2	3	4	5	6	7	8	9	10
人数(人)	0	0	3	4	3	7	5	2	1	0	1

答え 中央値 _____

四分位範囲 _____