


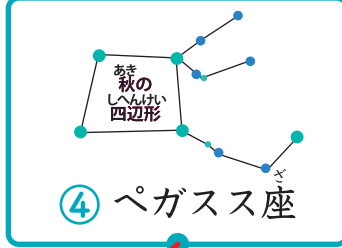


季節の星座テスト

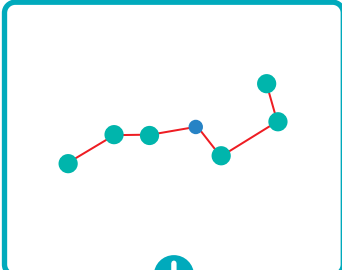
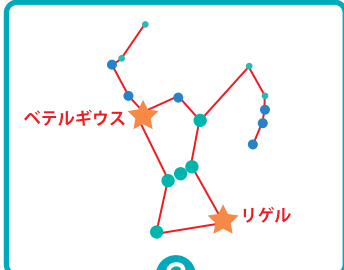
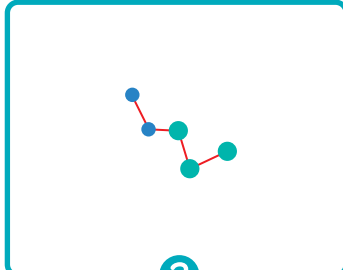
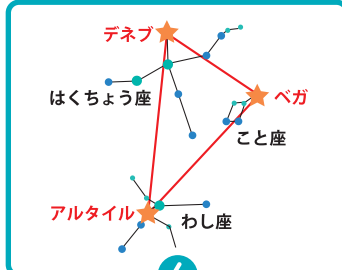
なまえ

てん

1 ①～④の星座がよく見えるのはどの季節ですか。  
春,夏,秋,冬からえらんで、——でつなぎましょう。各15点(60)

 <p>① おとめ座</p>	 <p>② ふたご座</p>	 <p>③ こと座</p>	 <p>④ ペガサス座</p>
春	夏	秋	冬

2 ①～④の星座や星の並びの名前を下からえらんで、——でつなぎましょう。  
各10点(40)

 <p>①</p>	 <p>②</p>	 <p>③</p>	 <p>④</p>
オリオン座	夏の三角形	カシオペヤ座	北斗七星

