

じ かん ●時計の読み方 ●時間の単位 **テスト**

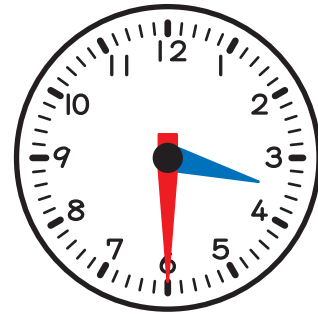
1 下の時計をよみましょう。各8点(72)



( )



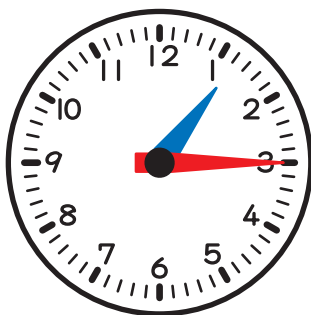
( )



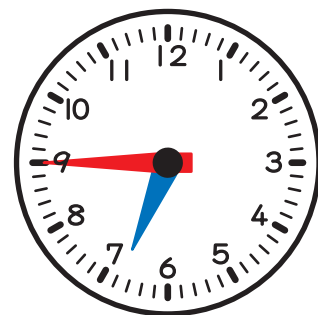
( )



( )



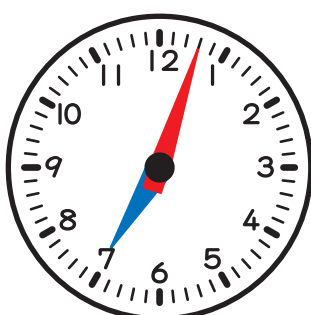
( )



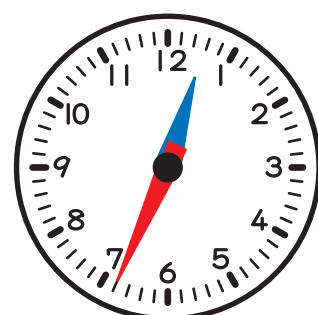
( )



( )



( )



( )

2 ( )にあてはまる数を書きましょう。各7点(28)

① 1時間は、( )分です。 ② 60分は、( )時間です。

③ 1日は、( )時間です。 ④ 24時間は、( )日です。