

## 四分位数・四分位範囲と箱ひげ図(6)

【1】次のデータは、A組の生徒25人とB組の生徒24人の数学のテストの結果を点数の低い順に並べたものです。

A組 25人 (単位: 点)

36, 38, 42, 45, 47, 47, 50, 50, 52, 55, 57, 68, 68, 70, 71, 73, 73, 74, 76, 79, 80, 83, 85, 88, 98

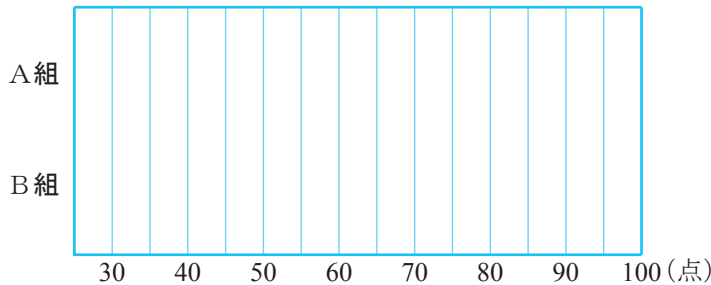
B組 24人 (単位: 点)

45, 47, 53, 57, 59, 60, 60, 63, 68, 69, 70, 72, 73, 75, 78, 79, 80, 81, 83, 85, 87, 88, 88, 90

(1) 各組の四分位数と四分位範囲を求め、下の表を完成させなさい。

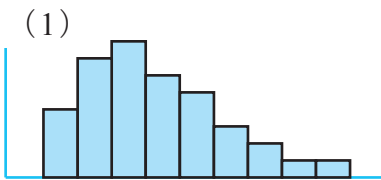
組	数学のテストの点数(点)					
	最小値	第1四分位数	中央値 (第2四分位数)	第3四分位数	最大値	四分位範囲
A組						
B組						

(2) 各組の箱ひげ図をかき入れなさい。

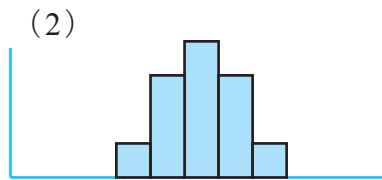


【2】次のヒストグラムに対応する箱ひげ図を

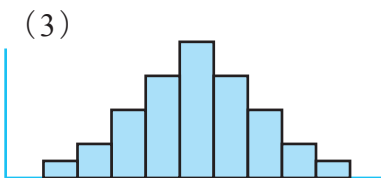
右のア～オの中から選び、記号で答えなさい。



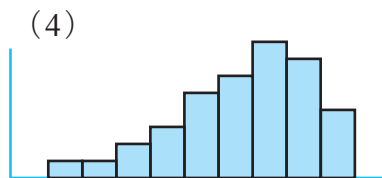
答え \_\_\_\_\_



答え \_\_\_\_\_



答え \_\_\_\_\_



答え \_\_\_\_\_

