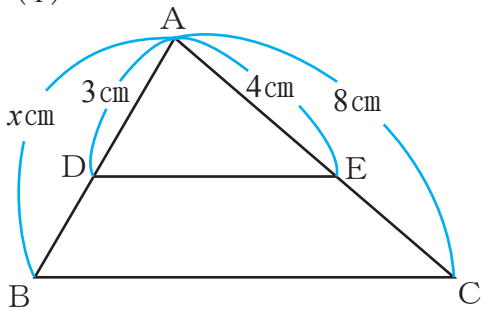


平行線と線分の比(3)

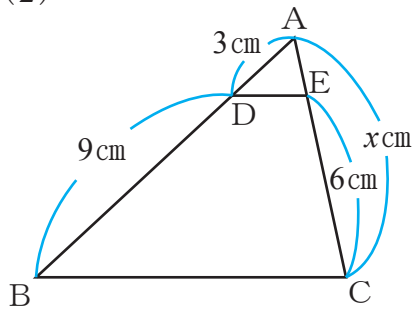
【1】下の図でDE // BCのとき、 x の値を求めなさい。

(1)



答え _____

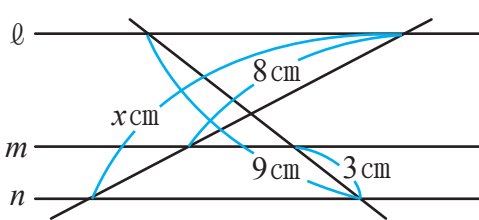
(2)



答え _____

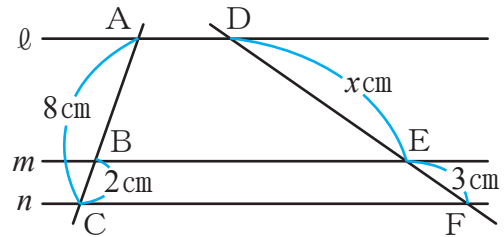
【2】下の図で直線 l, m, n が平行のとき、 x の値を求めなさい。

(1)



答え _____

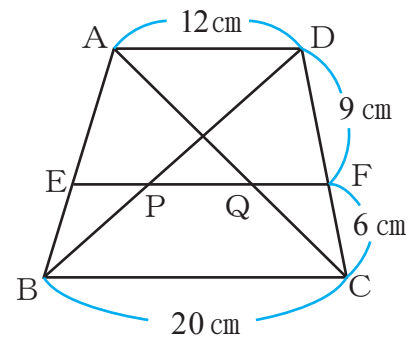
(2)



答え _____

【3】右の図の四角形ABCDでAD, EF, BCは平行である。
次の問いに答えなさい。

(1) 線分EQの長さを答えなさい。



答え _____

(2) 線分PQの長さを答えなさい。

答え _____

