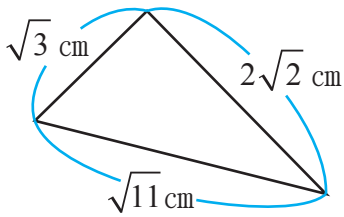


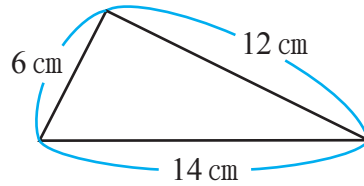
三平方の定理(4)

【1】下の図の三角形の中で、直角三角形であるものを答えなさい。

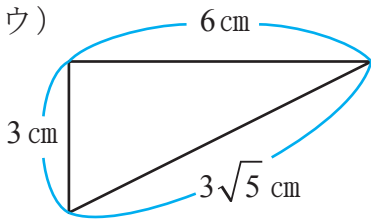
ア)



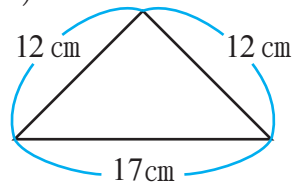
イ)



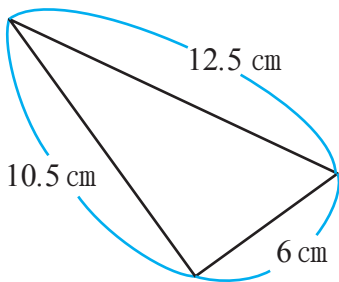
ウ)



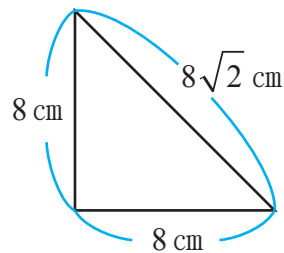
エ)



オ)



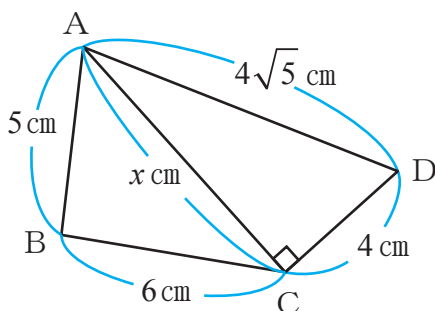
カ)



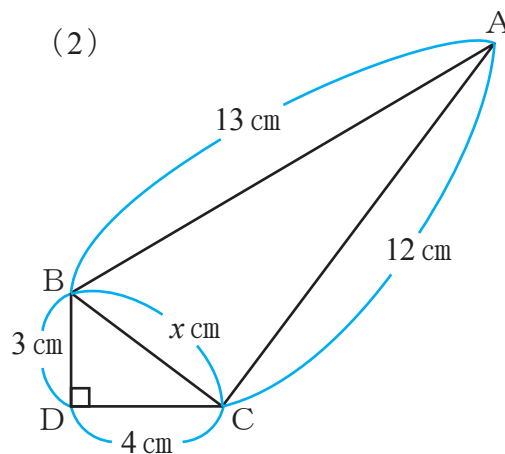
答え _____

【2】下の図の x の値を求めなさい。また、 $\triangle ABC$ が直角三角形といえるかどうかを答えなさい。

(1)



(2)



x の値 _____

答え _____

x の値 _____

答え _____

