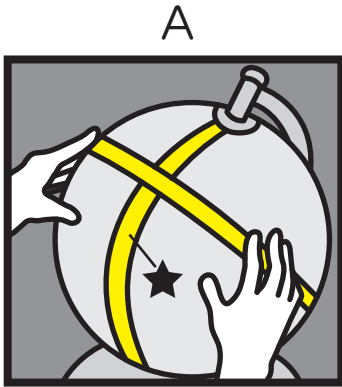




ちぎゅうぎ  
地球儀と世界地図

名前

1 次の図A、Bを見て、あとの問いに答えなさい。



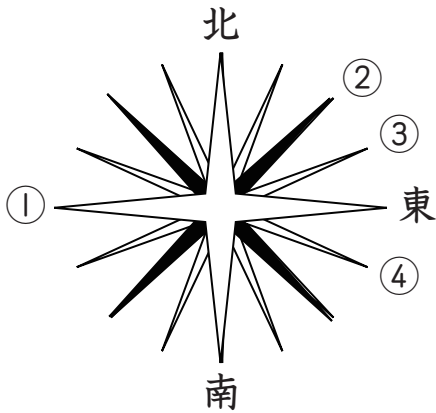
(1)	A	
	B	
(2)		

(1) これらの図はそれぞれ、地球儀を使って何を調べようとしていますか。最も適当なものを、下のア～エの中から一つずつ選びなさい。

- ア. (2点の間の) 距離      イ. 面積      ウ. 標高      エ. 方位

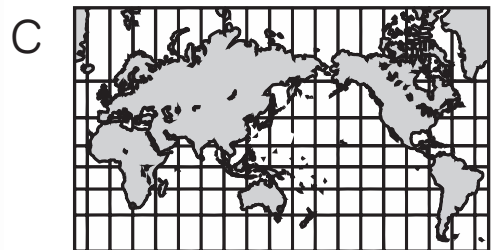
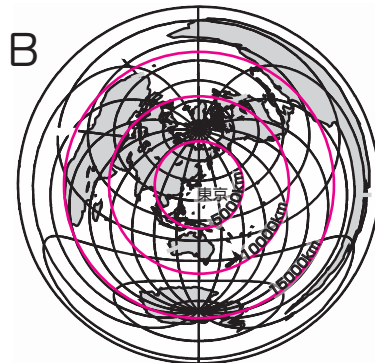
(2) Aの方法を使うとき、★のテープは地球儀に引かれた線のうち、何の線の上を通るように貼りますか。

2 次の図の①～④に当てはまる方位を、16方位で答えなさい。



①	
②	
③	
④	

3 次の世界地図A～Cを説明した文を、下のア～ウの中からそれぞれ選びなさい。



- ア. 経線と緯線が直角に交わるように描いた世界地図である。  
 イ. 図の中心からの方位と距離を正しく描いた世界地図である。  
 ウ. 大陸の面積を正しく描いた世界地図である。

A	
B	
C	