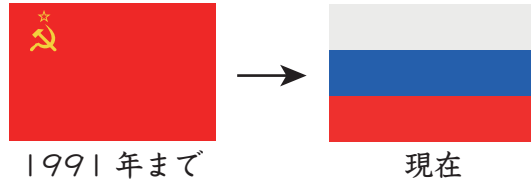




3 次の問題の答えを、下の「      」の中から選んで答えなさい。

- (1) アジア州のうち、最も東にある国はどこですか。
- (2) 南アメリカ州の赤道を通る国のうち、スペイン語で「赤道」と呼ばれる国はどこですか。
- (3) 北海道とほぼ同じ面積のヨーロッパ州の国はどこですか。
- (4) アフリカ州の国のうち、2011年に独立した国はどこですか。
- (5) ヨーロッパ州の国で、現地の言葉では「低い土地」を意味する「ネーデルランド」と呼ばれる国はどこですか。
- (6) 第二次世界大戦後の1957年に独立を果たし、植民地時代は「ゴールドコースト」と呼ばれていた国はどこですか。
- (7) 以下のように国旗が変化している国はどこですか。現在の国名で答えなさい。

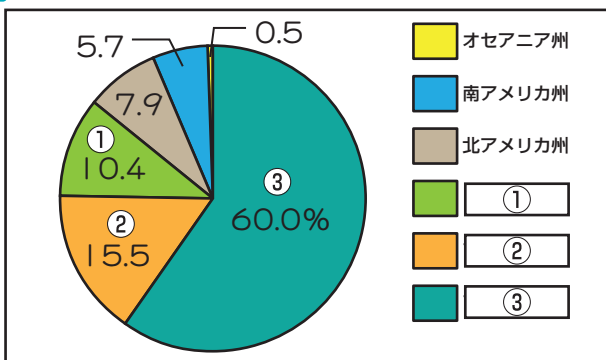


- ロシア連邦    イギリス    オーストリア    スペイン  
 オランダ    ベルギー    モロッコ    エクアドル  
 中華人民共和国    日本    フィリピン    インドネシア  
 南スーダン    南アフリカ共和国    ガーナ    エジプト

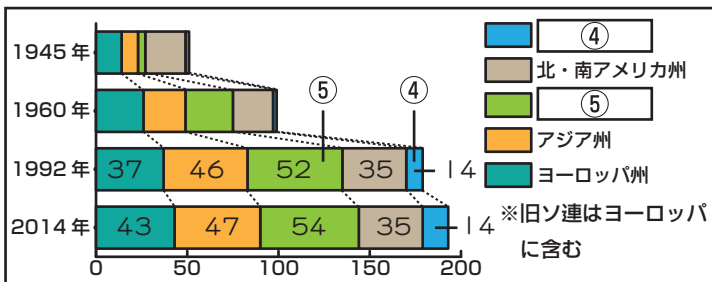
※使わない言葉もあります。

(1)	
(2)	
(3)	
(4)	
(5)	
(6)	
(7)	

4 次のグラフA、Bを見て、あとの問いに答えなさい。



(2013年 国連資料)



(国連資料)

(1)	①	
	②	
	③	
(2)	④	
	⑤	

- (1) Aの①～③に当てはまる地域区分(州)を答えなさい。
- (2) Bの④、⑤に当てはまる地域区分(州)を答えなさい。