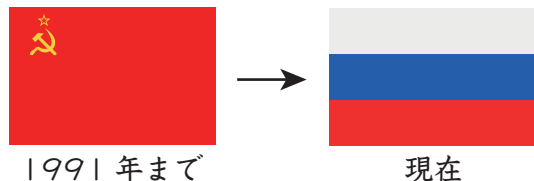




3 次の問題の答えを、下の「 」の中から選んで答えなさい。

- (1) アジア州のうち、最も東にある国はどこですか。
- (2) 南アメリカ州の赤道を通る国のうち、スペイン語で「赤道」と呼ばれる国はどこですか。
- (3) 北海道とほぼ同じ面積のヨーロッパ州の国はどこですか。
- (4) アフリカ州の国のうち、2011年に独立した国はどこですか。
- (5) ヨーロッパ州の国で、現地の言葉では「低い土地」を意味する「ネーデルランド」と呼ばれる国はどこですか。
- (6) 第二次世界大戦後の1957年に独立を果たし、植民地時代は「ゴールドコースト」と呼ばれていた国はどこですか。
- (7) 以下のように国旗が変化している国はどこですか。現在の国名で答えなさい。

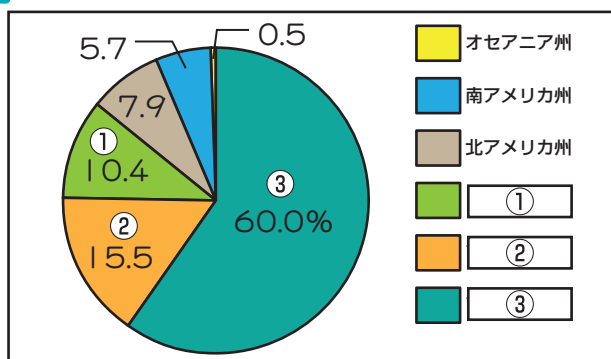


- ロシア連邦 イギリス オーストリア スペイン
 オランダ ベルギー モロッコ エクアドル
 中華人民共和国 日本 フィリピン インドネシア
 南スーダン 南アフリカ共和国 ガーナ エジプト

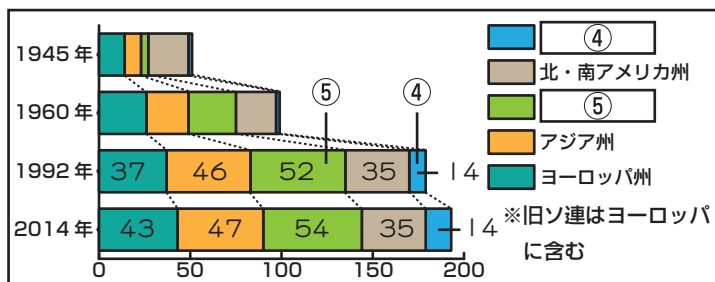
(1)	日本
(2)	エクアドル
(3)	オーストリア
(4)	南スーダン
(5)	オランダ
(6)	ガーナ
(7)	ロシア連邦

※使わない言葉もあります。

4 次のグラフA、Bを見て、あとの問いに答えなさい。



(2013年 国連資料)



(国連資料)

(1)	①	ヨーロッパ州
	②	アフリカ州
	③	アジア州
(2)	④	オセアニア州
	⑤	アフリカ州

- (1) Aの①～③に当てはまる地域区分(州)を答えなさい。
- (2) Bの④、⑤に当てはまる地域区分(州)を答えなさい。