





5 次の問いに答えなさい。

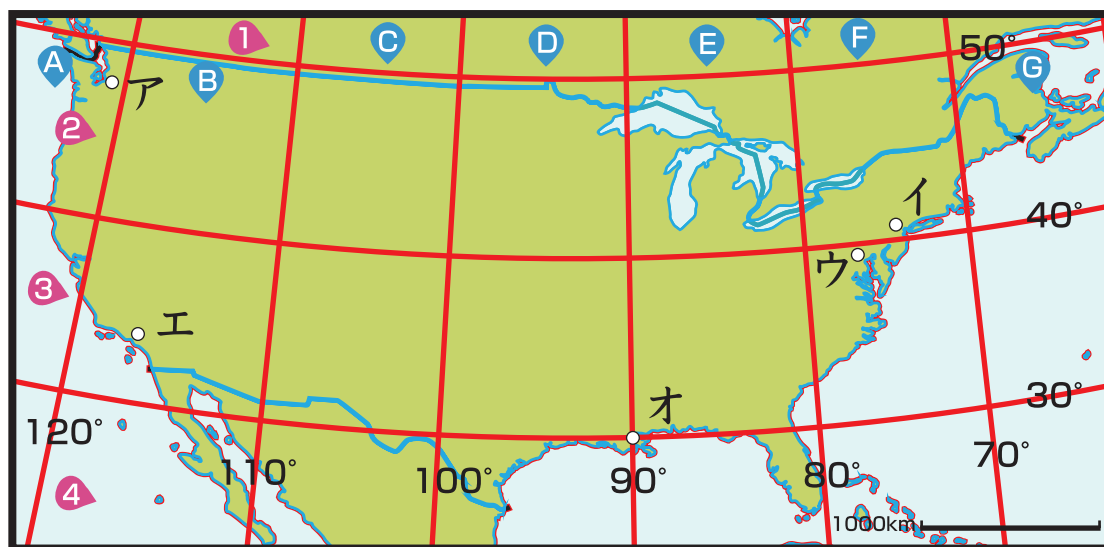
- (1) 世界で最も面積の小さい国はどこですか。
- (2) 人口が世界で2番目に多い国はどこですか。
- (3) 国の大半が氷でおおわれていることに由来した国名を持つ国はどこですか。
- (4) ラテン語で「自由の国」という意味の国名を持つアフリカ州の国はどこですか。
- (5) 下の①～③の国旗を持つ国の名前をそれぞれ答えなさい。

(1)	バチカン市国	
(2)	インド	
(3)	アイスランド	
(4)	リベリア	
(5)	①	イギリス
	②	ネパール
	③	アメリカ合衆国



6 地図帳の「さくいん」などで、地図上の地点を示す方法に、緯線と経線で区切られた区間を使って示すものがあります。次の(1)～(3)は、地図中のア～オのどの地点を示したものです。それぞれ記号で答えなさい。

- (1) F2S                      (2) A2N                      (3) F3N



(1)	イ
(2)	ア
(3)	ウ