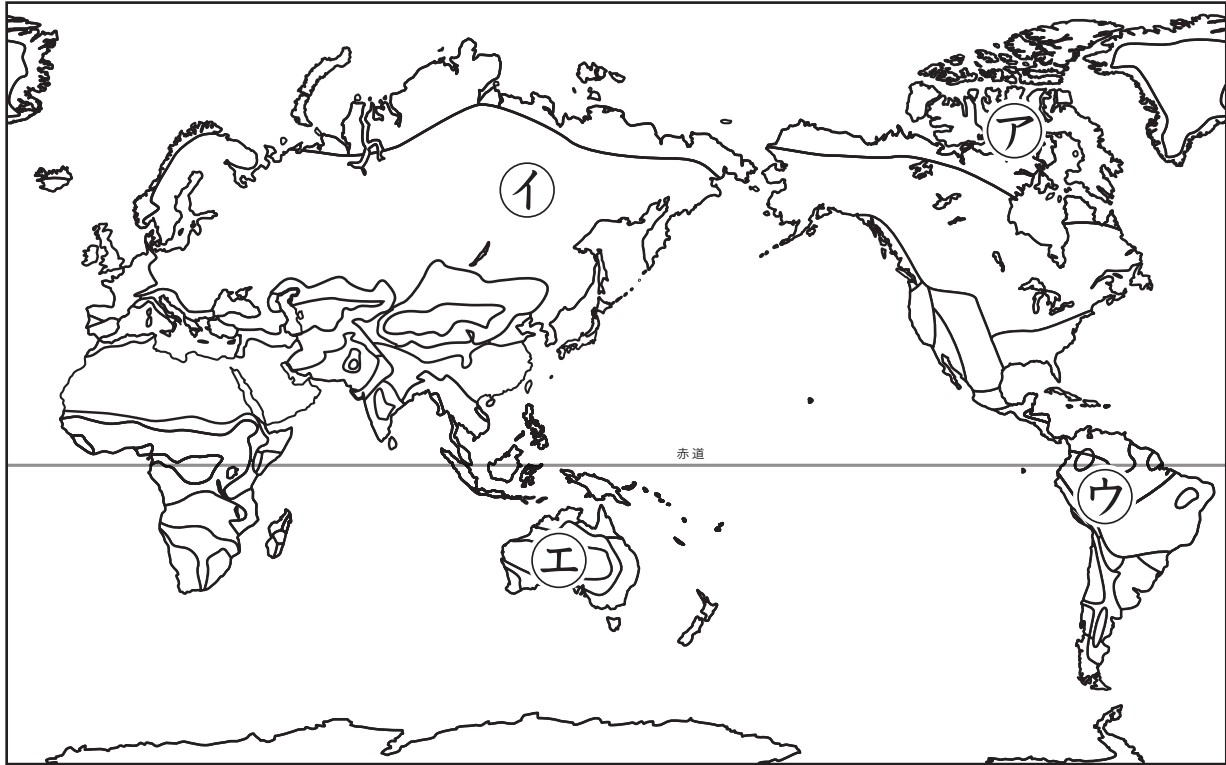



寒帯地域の生活

名前

次の地図を見て、あとの問いに答えなさい。



- (1) 寒帯の気候区に当てはまる地域を、上の地図中のア～エの中から1つ選び、記号で答えなさい。
- (2) 下の絵のような住居を何と言いますか。
また、ここに住み、アザラシなどを狩って生活する民族を何と言いますか。



(1)	ア	
(2)	住居	イグルー
	民族	イヌイット※ (エスキモー)
(3)	イ	ウ

※「イヌイット」とは、本来エスキモー系民族のうち、カナダ北部に居住する民族を指します。正確には、アラスカに居住する「イヌピアット」、シベリア北部に居住する「ユピク」とは別の民族です。

- (3) 寒帯の地域の暮らしとして適当なものを、次の中から2つ選び、記号で答えなさい。
- ア. ツンドラ気候の地域では、夏に氷がとける地表で野菜を栽培する。
 - イ. 氷雪気候の地域では、農業ができない。
 - ウ. 北アメリカ大陸・北極圏付近の先住民族は、夏にはアザラシの皮で作ったテントで生活する。
 - エ. カナダ北部の先住民族は、冬にはカリブーを追って生活する。
 - オ. アラスカ北部の先住民族の伝統的な移動手段は、人力のそりである。
 - カ. 北アメリカ大陸・北極圏付近の先住民族には、生肉を一切食べない文化がある。



2 次の文章を読んで、あとの問いに答えなさい。

カナダ北部には、現在も (①) などと呼ばれる先住民族が生活しています。かつて、(①) の生活の中心は、狩りでした。冬は、表面が厚くこおった海の上に雪を固めて (②) を作り、そこに住みながら (③) を追って生活していました。

カナダ政府は、1950年代から (①) の定住化を進め、(①) が居住する町をつくりました。[あ]。氷上の移動手段は、伝統的なそりからスノーモービルへと取って代わられつつあります。

(1) ①～③に当てはまる言葉を答えなさい。

(2) 文中の[あ]に当てはまる文章として適当でないものを、次の中から1つ選び、記号で答えなさい。

ア. 町には学校やスーパーマーケット、小型飛行機用の空港などが造られました。

イ. 町では発電も行われ、その電気でインターネットを使ったコミュニケーションも行えるようになっていきます。

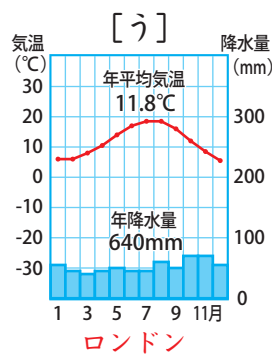
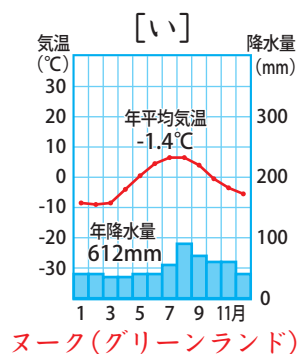
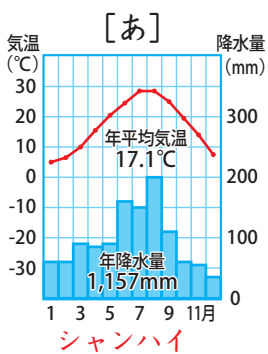
ウ. 冷蔵庫や電子レンジなど、近代的な家電製品も使われています。

エ. これにより、アザラシやカリーブを狩る伝統的な暮らしは一切禁止されました。

(1)	①	イヌイット※
	②	イグルー
	③	アザラシ
(2)	エ	

3 次の問題に答えなさい。

(1) 下の雨温図[あ]～[う]のうち、寒帯のツンドラ気候の例となるものを1つ選び、記号で答えなさい。



(1)	い
(2)	白夜
(3)	イ

(2) 寒帯の地域で夏に見られる、一日中太陽が沈まない現象を何と言いますか。

(3) 寒帯の気候区に当てはまる都市を、次のア～エの中から選び、記号で答えなさい。

ア. ニューヨーク イ. イカルイト ウ. 東京 エ. モスクワ