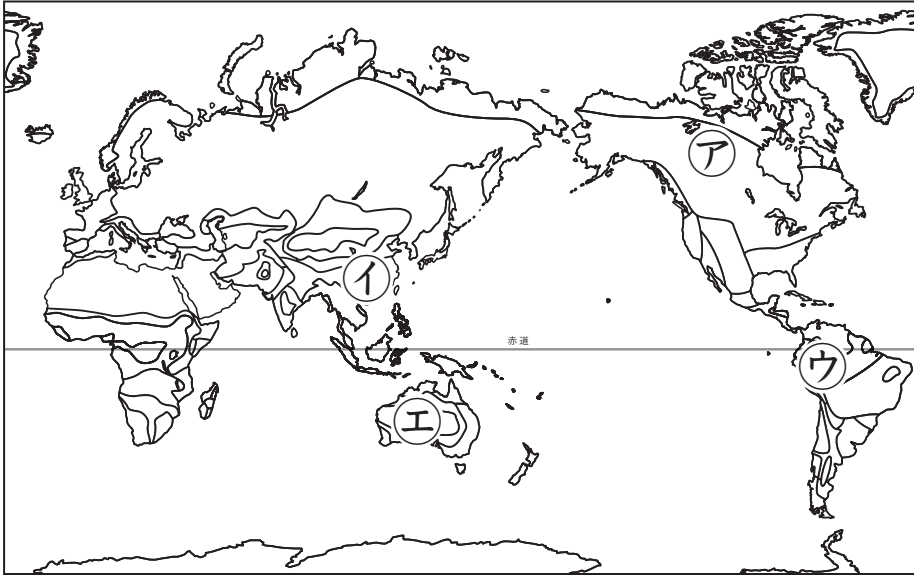




# 温帯地域の生活

名前

1 次の地図を見て、あとの問いに答えなさい。




(1)	
(2)	
(3)	

- (1) 温帯に当てはまる地域を、上の地図中のア～エの中から1つ選び、記号で答えなさい。
- (2) 温帯に含まれる気候区の名前を3つ答えなさい。
- (3) 北海道より北の地域を除いた、日本の温帯の気候区を答えなさい。

2 次の図[あ]、[い]を見て、以下の問いに答えなさい。

[あ]



[い]



- (1) [あ]は、ギリシア・サントリーニ島の海岸沿いの町を描いたものです。壁は石灰で白く塗られていますが、それはなぜですか。解答らん<sup>えが</sup>に当てはまるように答えなさい。
- (2) [い]に描かれたイタリアの住居の特徴として適当でないものを、下のア～エの中から1つ選び、記号で答えなさい。
 

ア. 窓が小さい。	イ. おもに木でできている。
ウ. 古い建物が多い。	エ. 高所にあることが多い。

(1)	日ざしを _____て、 家の中を _____ ため。
	(2)



3 次の文章を読んで、あとの問いに答えなさい。

ユーラシア大陸東側の( ① )にあたる地域では、夏の多くの降水と気温の上昇を利用し、古くから( ② )が行われてきました。日本や中国などに見られるような米を主食とする食文化は、こうした気候も関係しています。

ヨーロッパの③西岸海洋性気候の地域では、日光が不足しがちなため、気温が高い時期に日光浴をする習慣が見られます。

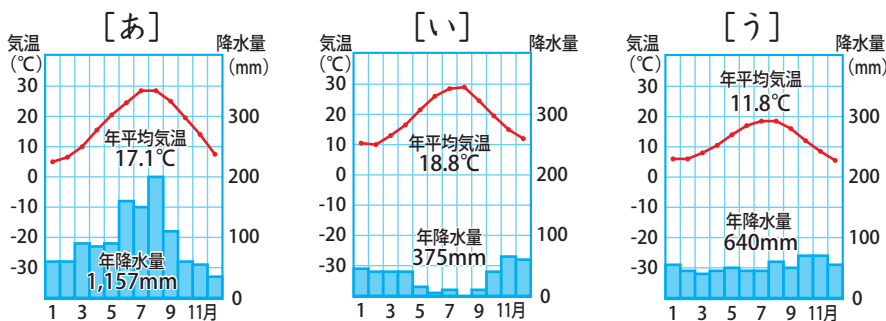
地中海沿岸のスペインでは、夏の日照時間が長いため、日中の気温が上がります。④この暑い午後の時間帯に、人々は昼食をゆっくり食べ、昼寝などをして休憩する習慣が見られます。

(1)	
(2)	
(3)	
(4)	

- (1) 文中の①に当てはまる気候区を答えなさい。
- (2) ②に当てはまる言葉として最も適当なものを、次の中から1つ選び、記号で答えなさい。  
ア. 稲作    イ. 果樹栽培    ウ. 漁業    エ. 林業
- (3) 下線部③はどんな特徴のある気候区ですか。簡潔に説明しなさい。
- (4) 下線部④のように過ごす昼の休憩をスペイン語で何と呼びますか。カタカナで答えなさい。

4 次の問題に答えなさい。

- (1) 下の雨温図[あ]～[う]のうち、温帯の地中海性気候の例となるものを1つ選び、記号で答えなさい。



(1)	
(2)	
(3)	

- (2) 日本に温暖湿潤気候が見られるのは、季節ごとに風向きを変えて吹く風がひとつの原因になっています。この風を何と言いますか。
- (3) ヨーロッパの高緯度地域に西岸海洋性気候が見られるのは、暖かい海水の上を通過して陸地に吹きつける風がひとつの原因になっています。この風を何と言いますか。