



3 次の文章を読んで、あとの問いに答えなさい。

砂漠では、乾燥に強い (①) や羊を飼い、移動して生活する (②) が行われてきました。衣服は、日中の強い日差しや砂ぼこりから身を守るために、[あ]を着ています。

サハラ砂漠では、地下水がわき出るオアシス以外、樹木はほとんど育ちません。しかし、(③) では少ない雨を利用し、乾燥に強い (④) やひえ、(⑤) といった穀物を作ってきました。ここで行われてきたのが、⑥焼畑農業でした。

サウジアラビアなどの国では、深い井戸を掘り、電動モーターで (⑦) の水を大量にくみ上げ、各家庭に水道を使って送る施設の整備が進んでいます。しかし、大量なくみ上げにより (⑧) 水がなくなることにも心配されています。

| | | |
|-----|---|--|
| (1) | ① | |
| | ④ | |
| | ⑤ | |
| (2) | ② | |
| | ⑦ | |
| (3) | | |
| (4) | | |
| (5) | | |

(1) 文中の①、④、⑤に当てはまる言葉を、次のア～カの中から選び、記号で答えなさい。

- ア. こんにゃく イ. もろこし ウ. ラクダ
エ. カバ オ. 米 カ. きび

(2) 文中の②、⑦に当てはまる言葉を答えなさい。

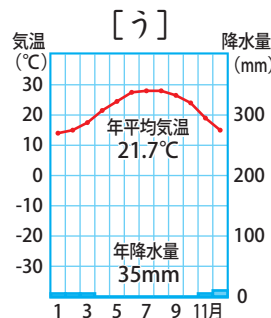
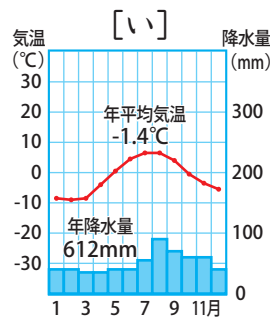
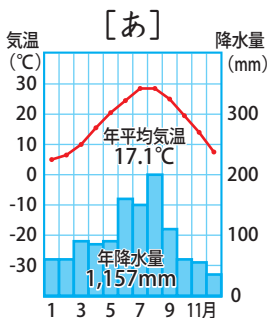
(3) 文中の③は、サハラ砂漠南方の地域を指す現地の呼び名で、日本語で「岸边」という意味の言葉です。③に当てはまる言葉を、カタカナで答えなさい。

(4) 文中の[あ]に当てはまる文節として、最も適当なものを、次のア～エの中から選び、記号で答えなさい。

- ア. 長そでで、たけの長いもの イ. 動物の皮でできた分厚いもの
ウ. 半そでで、たけの短いもの エ. 長そでで、動物の毛皮をぬい付けたもの

(5) 下線部⑥はどんな農業ですか。簡単に説明しなさい。

4 次の雨温図[あ]～[う]を見て、以下の問いに答えなさい。



| | |
|-----|--|
| (1) | |
| (2) | |

(1) 乾燥帯のステップ気候を表す雨温図はどれですか。記号で答えなさい。

(2) (1) のような地域では、ため池などから水路を通して畑に水を引くことで農業を行っていることもあり、こうした方法を (A) 農業と言います。Aに入る言葉をひらがな4字で答えなさい。