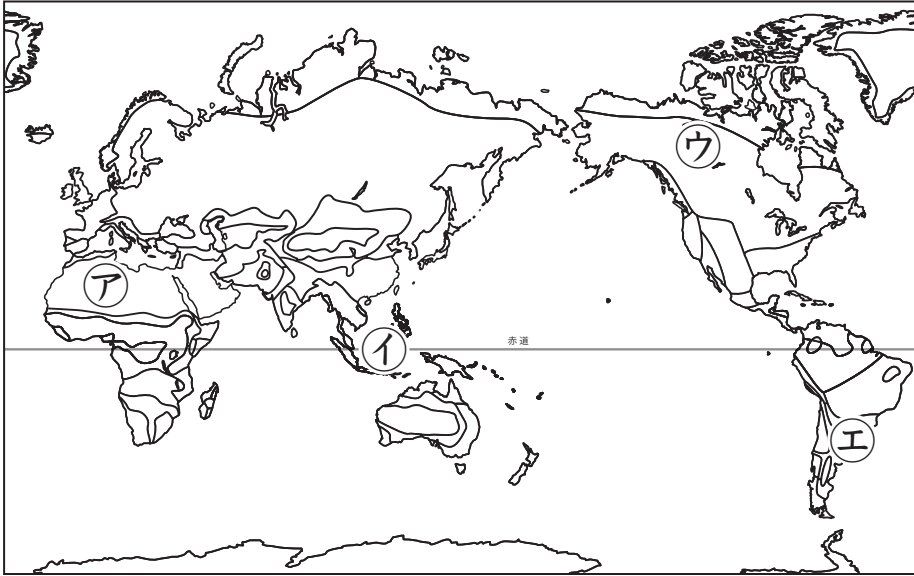




熱帯地域の生活

名前

1 次の地図を見て、あとの問いに答えなさい。




(1)	①
(2)	サバナ気候
(3)	スコール


- 熱帯に当てはまる地域を、上の地図中のア～エの中から1つ選び、記号で答えなさい。
- 熱帯のうち、一年が雨季と乾季に分かれる気候区は何ですか。
- 熱帯雨林気候で毎日のように降る、一時的な強い風をともなう大つぶの雨を何と言いますか。

2 次の図[あ]、[い]を見て、以下の問いに答えなさい。

[あ]



[い]



(1)	タロイモ
	キャッサバ ※ほか、ヤムイモも可
(2)	家の中に 湿気 が、 こもらない よう にするため。
(3)	イ

- [あ]は、熱帯雨林気候のフィジーの伝統料理の調理風景です。主食であり、この料理でも使われる材料はおもに何ですか。2つ答えなさい。
- [い]は、熱帯雨林気候で見られる住居です。この住居は床が高く造られていますが、それはなぜですか。解答らん^{らん}に合うように答えなさい。
- 熱帯雨林気候に住む人々は、どのような素材の衣服を身につけますか。最も適当なものを、次のア～エの中から選び、記号で答えなさい。

ア. 動物の毛皮

イ. 風通しの良い素材

ウ. 羊毛から作った布

エ. 網目が細かく厚手の素材