



3 次の文章を読んで、あとの問いに答えなさい。

熱帯雨林気候の地域では、雨が多く、気温が高いため、作物が一年中育ちます。例えばフィジーでは、(①)、②ココヤシなどの大規模な畑が広がっています。これらは重要な輸出品となります。


熱帯の地域では、観光を目的とした開発を進めている国もあります。こうした開発は[あ]にしますが、一方で、観光地の開発や農地の拡大などによって(③)や(④)などが減少しており、熱帯林の広がる地域に暮らす人々が伝統的な生活を続けることを難しくしています。

(1) 文中の空らん①に当てはまる農産物は、砂糖の原料になるものです。これは何ですか。

(2) 下線部②から採れるコプラは、何の原料として輸出されますか。最も適当なものを、次の中から1つ選び、記号で答えなさい。

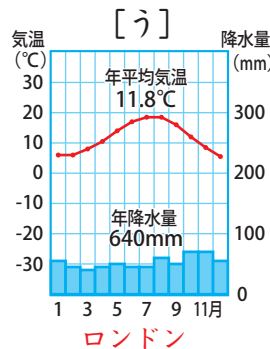
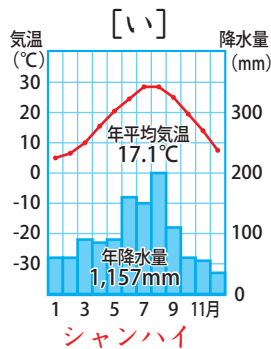
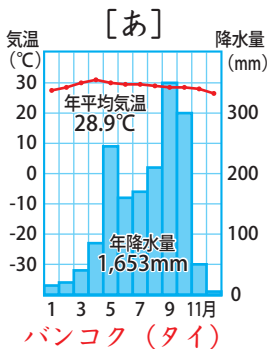
- ア. 香辛料や調味料 イ. マーガリンやせっけん
- ウ. ジュースなどの飲料 エ. 衣類を作るせんい

(3) 下の図は、熱帯の海岸などに育つ文中③の樹木と、温かく浅い海にできる④の地形の景色を表しています。それぞれ何か答えな



(4) 空らん[あ]に文章を補い、文を完成させなさい。ただし、「外国人観光客」という語を必ず用いること。

4 次の雨温図を見て、以下の問いに答えなさい。



(1) 雨温図[あ]～[う]のうち、サバナ気候を示すものはどれですか。1つ選び、記号で答えなさい。

(2) 熱帯雨林気候の特徴について、「気温」と「降水量」に注目して説明しなさい。

(1)	さとうきび	
(2)	イ	
(3)	③	マングローブ
	④	さんご礁

(4) 例)
外国人観光客を増やし、その国の経済を豊か

※空らん[あ]が含まれる一文で、観光を目的とした開発の良い点と悪い点を説明する。
空らん[あ]は「良い点」を説明する部分なので、「豊かになる」という内容を入れる必要がある。

(1)	あ	
(2)	例) 年間を通して気温が高く一定で、降水量も多く一定である。	