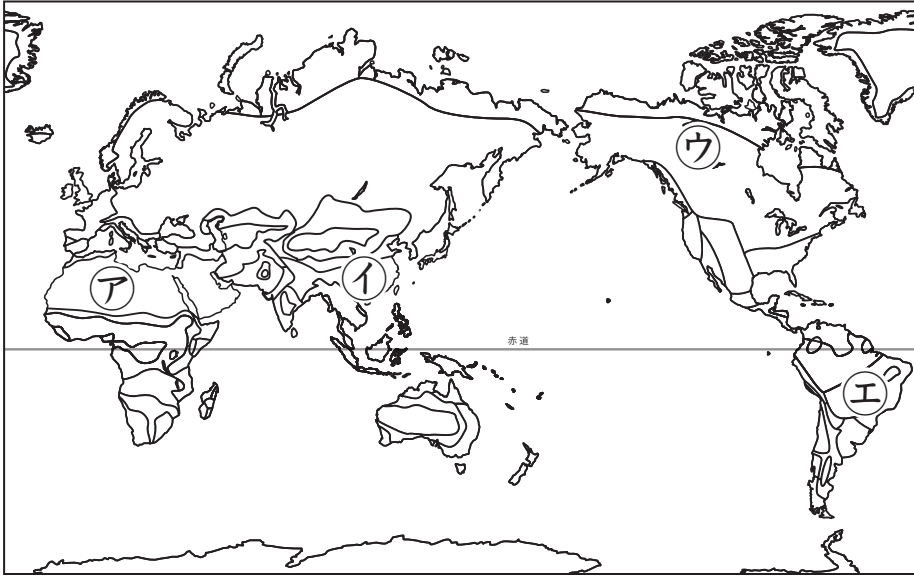




高山気候の生活

名前

1 次の地図を見て、あとの問いに答えなさい。



(1)	
(2)	
(3)	


- 高山気候に当てはまる地域を、上の地図中の①～⑤の中から1つ選び、記号で答えなさい。
- 高山気候が見られない場所は、次のア～エのうちどれですか。1つ選び、記号で答えなさい。
ア. チベット高原 イ. アンデス山脈 ウ. アルプス山脈 エ. サハラ砂漠
- 高山気候の地域で見られる現象として適当でないものを、次のア～ウの中から1つ選び、記号で答えなさい。
ア. 同じ緯度の標高が低い土地より、降水量が一年を通して少ない。
イ. 酸素が薄いため、慣れない人が訪れると高山病にかかることがある。
ウ. 気圧が低いため、密閉したお菓子の袋はしぼんでしまう。

2 次の図[あ]～[う]を見て、以下の問いに答えなさい。

[あ]



[い]



[う]



(1)	あ	
	い	
(2)		
(3)		

- [あ]、[い]は、南アメリカの高山気候地域で飼育されている家畜です。それぞれの家畜の名称を答えなさい。
- (1) の地域の人びとは、[あ]、[い]の家畜の毛やふんなどを利用するために、家庭ごとに数匹ずつ放し飼いで飼っています。このように家畜を放し飼いにする飼育方法のことを何と言いますか。漢字2字で答えなさい。
- [う]のような、南アメリカの高地の伝統的な衣装を何と呼びますか。



3 次の文章を読んで、あとの問いに答えなさい。

①南アメリカ西部の高地に暮らす人々は、山の急斜面を高いところまで畑にし、寒さに強い作物を作っています。標高が2,000~3,000mくらいのところでは(②)を作り、それよりも高く、より寒いところでは(③)を作ります。④伝統的な家の壁には石や日干しレンガ、屋根にはかわらが利用されま

す。
高地に暮らす人々は、山が多いため、住んでいる地域の外の情報、とくに外国の情報が入手しにくいのが普通でした。しかし近年では、[あ]になりました。

(1) 下線部①の衣服について説明した次のア~エの文のうち、適当でないものを一つ選び、記号で答えなさい。

- ア. 家畜の毛で作った衣服を重ね着し、帽子をかぶる。
- イ. 太陽の光が強いため、白っぽい布で衣服を作る。
- ウ. 男性と女性の衣服にはっきりした違いが見られない。
- エ. 赤や青などのはっきりした色の糸で模様をつける。

(2) 文中の②、③に当てはまる農作物をそれぞれ答えなさい。

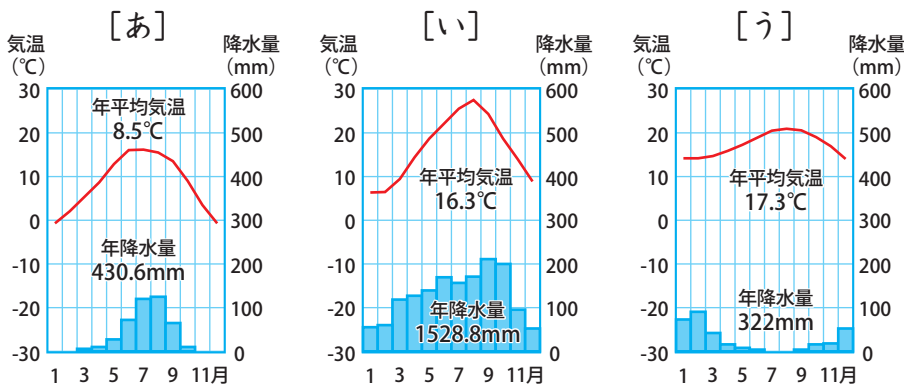
(3) 下線部④について、これはなぜですか。この地域の気候と植生をふまえて、簡単に理由を述べなさい。

(4) 文中の空らん[あ]に当てはまる文として最も適当なものを、下のア~エの中から一つ選び、記号で答えなさい。

- ア. 外国人が多く移り住んできていて、外国の情報が豊富
- イ. インターネット回線の整備により、情報の入手が簡単
- ウ. 世界遺産への注目から観光客が集まり、経済が豊か
- エ. 独特な民族衣装や豊かな自然を売りにした観光業がさかん

(1)	
(2)	②
	③
(3)	
(4)	

4 次の雨温図[あ]~[う]は、ほぼ同じ緯度上の別の地点の値をまとめたものです。これらのうち、高山気候の雨温図はどれですか。一つ選び、記号で答えなさい。また、それを選んだ理由を簡単に説明しなさい。



記号	
理由	