


3 次の文章を読んで、あとの問いに答えなさい。

世界の人々は、自分たちが住んでいる地域の環境に合わせて暮らしてきました。
①住居の形や構造、②衣類は気候などの自然環境に応じて、暮らしやすくなるように工夫されています。また、建物の素材や食材も、その地域の自然環境に応じた手に入りやすいものが使われています。

世界のどの大都市を見ても、コンクリートの(③)が立ち並んでいます。衣服も、化学せんいをはじめとした同じ材料が使われ、Tシャツやジーンズ、背広、ワイシャツとネクタイが広まっています。[あ]が見られるようになりました。

(1) 下線部①について、下の図[あ]、[い]、[う]はそれぞれ、どの国で見られる住居ですか。それぞれ適当なものを、下のア～エの中から1つ選び、記号で答えなさい。

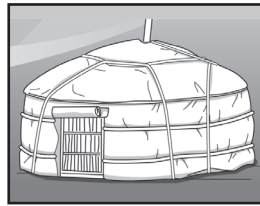
[あ]



[い]



[う]




ア. サウジアラビア
ウ. スペイン

イ. インドネシア
エ. モンゴル

(2) 下線部②について、次の[あ]、[い]、[う]は、どの国の人々によく見られる服装ですか。それぞれ適当なものを、下のア～エの中から1つ選び、記号で答えなさい。

[あ]



[い]



[う]



ア. アメリカ合衆国 イ. エジプト ウ. ペルー エ. インド

(3) 空らん③に当てはまる建物の一般的な呼び名を答えなさい。

(4) 空らん[あ]に当てはまる文章として最も適当なものを、次のア～エの中から1つ選び、記号で答えなさい。

- ア. 伝統的な暮らしが壊されたことで、世界中の都市で豊かな人々
- イ. 流通のスピードが上がったことで、世界中で豊かな暮らし
- ウ. 科学技術の進歩により、世界中の都市で同じような風景
- エ. 古くからの習慣が失われたため、世界中でさまざまな病気

(1)	あ	
	い	
	う	
(2)	あ	
	い	
	う	
(3)		
(4)		