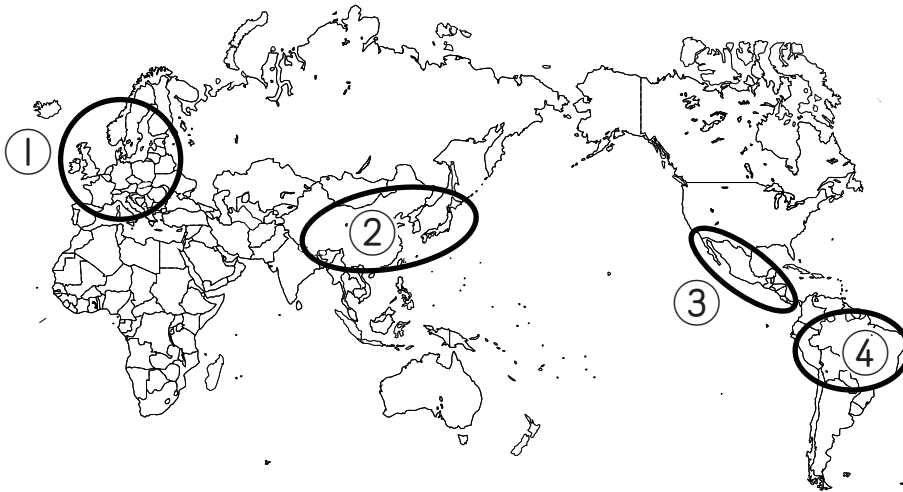




文化とその多様化

名前

1 次の地図を見て、あとの問いに答えなさい。



(1)	①	
	②	
	③	
	④	
(2)		

(1) 地図の①～④それぞれの地域の主食は何ですか。下のア～オの中からそれぞれ1つずつ選び、記号で答えなさい。

- ア. 米 イ. いも類 ウ. 小麦 エ. とうもろこし

(2) 流通がとどつた現代では、地域ごとの食事のあり方にも変化が見られます。それはどのような変化ですか。最も適当なものを、次のア～エの中から1つ選び、記号で答えなさい。

- ア. 手軽に注文できるピザやハンバーガーが、世界各地に広まった。
 イ. 簡単な調理で食べられるインスタント食品が世界各地に広まった。
 ウ. もともとその地域にあった伝統的な食事が失われた。
 エ. 栄養があることがより重視され、サプリメントが世界各地に広まった。

2 世界各地で使用されている言語について、以下の問いに答えなさい。

(1) 国の政府が、^{おおやけ}公に使用すると定める言語を、^{いっぽん}一般的に何と言いますか。漢字3字で答えなさい。

(2) 国と、おもに使用されている言語の組み合わせとして最も適当なものを、次のア～エの中から選び、記号で答えなさい。

- ア. 英語 — オーストラリア
 イ. 英語 — 中国
 ウ. マレー語 — インドネシア
 エ. フランス語 — メキシコ

(3) シンガポールでは、マレー語を国語とするほか、中国語、タミル語、英語を公用語としています。これはなぜですか。解答らんの下線部に、適した言葉を入れなさい。

(1)	-----
(2)	
(3)	国が、そこに住む多くの _____ を1つにまとめようと考えているから。


3 次の文章を読んで、あとの問いに答えなさい。

世界の人々は、自分たちが住んでいる地域の環境に合わせて暮らしてきました。
①住居の形や構造、②衣類は気候などの自然環境に応じて、暮らしやすくなるように工夫されています。また、建物の素材や食材も、その地域の自然環境に応じた手に入りやすいものが使われています。

世界のどの大都市を見ても、コンクリートの(③)が立ち並んでいます。衣服も、化学せんいをはじめとした同じ材料が使われ、Tシャツやジーンズ、背広、ワイシャツとネクタイが広まっています。[あ]が見られるようになりました。

(1) 下線部①について、下の図[あ]、[い]、[う]はそれぞれ、どの国で見られる住居ですか。それぞれ適当なものを、下のア～エの中から1つ選び、記号で答えなさい。

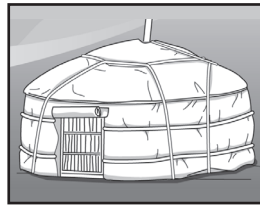
[あ]



[い]



[う]




ア. サウジアラビア
ウ. スペイン

イ. インドネシア
エ. モンゴル

(2) 下線部②について、次の[あ]、[い]、[う]は、どの国の人々によく見られる服装ですか。それぞれ適当なものを、下のア～エの中から1つ選び、記号で答えなさい。


[あ]



[い]



[う]



ア. アメリカ合衆国 イ. エジプト ウ. ペルー エ. インド

(3) 空らん③に当てはまる建物の一般的な呼び名を答えなさい。

(4) 空らん[あ]に当てはまる文章として最も適当なものを、次のア～エの中から1つ選び、記号で答えなさい。

- ア. 伝統的な暮らしが壊されたことで、世界中の都市で豊かな人々
- イ. 流通のスピードが上がったことで、世界中で豊かな暮らし
- ウ. 科学技術の進歩により、世界中の都市で同じような風景
- エ. 古くからの習慣が失われたため、世界中でさまざまな病気

(1)	あ	
	い	
	う	
(2)	あ	
	い	
	う	
(3)		
(4)		