

雲と天気の変化（４）

名前

1 右の図は、日本付近の3日間の雲画像がぞうを表しています。次の問いに答えましょう。

(1) 雲画像は何というところから送られてくる気象情報じょうほうですか。次の①、②から選び、番号を書きましょう。

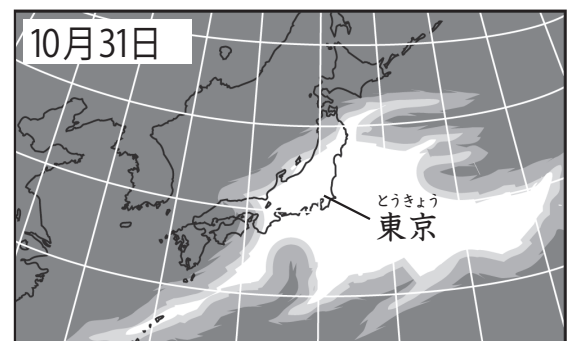
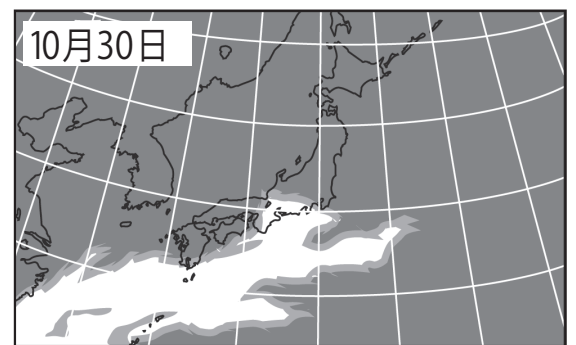
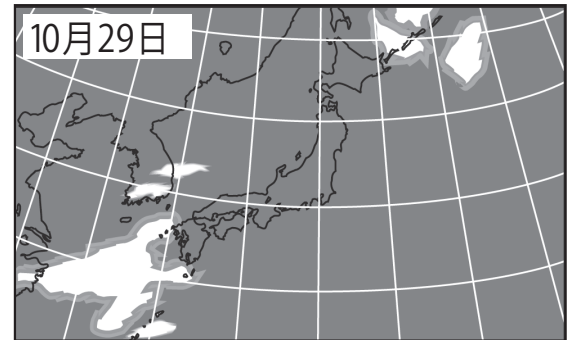
① 気象衛星えいせい ② 気象観測所かんそく（アメダス）
()

(2) 雲画像の白い部分は何を表していますか。
()

(3) 雲はどのように移動いどうしましたか。次の文の()にあてはまる方位を書きましょう。

雲は()から東へ移動した。

(4) 10月31日の東京とうきょうの天気はくもりでした。11月1日の東京の天気は晴れ、くもりのどちらと予想できますか。
()



2 右の図は、ある日の天気予報よほうを表しています。次の問いに答えましょう。

(1) 大阪おおさかの天気は晴れ、くもり、雨のうちどれですか。
()

(2) 東京とうきょうのよく日の天気じつは晴れ、雨のどちらになると予想できますか。
()

