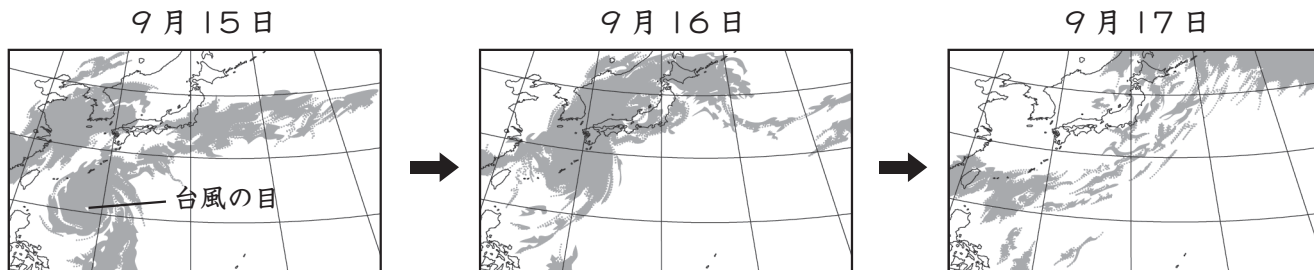


# 天気の変化ときまり (4)

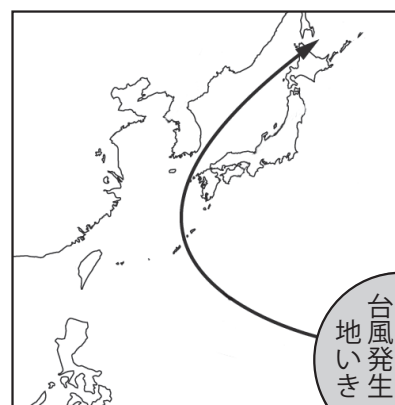
名前

1 下の図は、台風が日本を通ったときの3日間の雲画像を表しています。あとの問いに答えましょう。



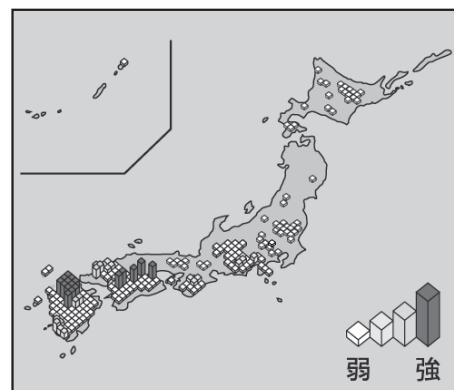
(1) 右の図は、上の図の雲の動きをもとにして表した台風の進路を示しています。台風の進み方についてまとめるとき、次の文の ( ) の中の正しいほうの言葉を○でかこみましょう。

日本の ( 北・南 ) の方の海上で発生した台風は、はじめはおよそ ( 西・東 ) の方へ進み、その後およそ ( 北東・南西 ) の方へ向きを変えて進んだ。



(2) 右の図のアメダスの降水量情報は、上の図の3日間のうちの何月何日の情報ですか。 ( ) に日づけを書きましょう。

( 9月16日 )



2 次の文は、台風について説明しています。( ) にあてはまる言葉を下の□から選び、書き入れましょう。

台風は夏から <sup>⑦</sup> ( 秋 ) にかけて日本に近づくことがある。台風が近づいたところでは、強い <sup>①</sup> ( 風 ) がふいたり、短い時間に <sup>⑤</sup> ( 大雨 ) がふったりして、<sup>④</sup> ( 災害 ) が起きることもある。

災害      大雨      風      秋