

数の構成 対象：1年生 ねらい：5が、何と何の数で出来ているか理解する。



いくつといくつで5になるかな？



1 あめのかずをかぞえて、□のなかにすうじをかきましょう。



... が **3** こ, が **2** こ



... が **4** こ, が **1** こ



... が **2** こ, が **3** こ



... が **1** こ, が **4** こ

2 □のなかにすうじをかきましょう。

5 は, ●○○○○○ **1** と **4**

●●○○○○ **2** と **3**

●●●○○○ **3** と **2**

●●●●○ **4** と **1**

やってみよう!

5 は, 1 と 4

□にはいるかずはなにかな？

5 は, 3 と...

数の構成 対象：1年生 ねらい：6が、何と何の数で出来ているか理解する。

てん _____



いくつといくつで6になるかな？



1 あめのかずをかぞえて、□のなかにすうじをかきましょう。
2つの数字が書けて正答 1つ10てん (50)



... が こ, が こ




... が こ, が こ



... が こ, が こ



... が こ, が こ



... が こ, が こ

2 □のなかにすうじをかきましょう。
2つの数字が書けて正答 1つ10てん (50)

6は,

●○○○○○ と

●●●●○○ と

●●○○○○○ と

●●●●●○ と


●●●○○○ と



数の構成 対象：1年生 ねらい：7が、何と何の数で出来ているか理解する。



いくつといくつで7になるかな？



1 かずをかぞえて、□のなかにすうじをかきましょう。1つ10てん (50)

●○○○○○○○
 ●が1 ○が **6**

●●●○○○○○
 ●が3 ○が **4**

●●●●●○○○
 ●が6 ○が **1**

●●●●○○○○○
 ●が4 ○が **3**

●●●●●○○○
 ●が5 ○が **2**

●●○○○○○○○
 ●が2 ○が **5**

2 □のなかにすうじをかきましょう。1つ5てん (50)

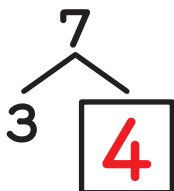
7は、

●○○○○○○○	1	と	6	●●●●○○○	4	と	3
●●○○○○○○○	2	と	5	●●●●●○○○	5	と	2
●●●○○○○○○○	3	と	4	●●●●●●○○○	6	と	1

やってみよう!



7は、
1と6



□にはいる
かずはなにかな？




数の構成 対象：1年生 ねらい：8が、何と何の数で出来ているか理解する。

てん



いくつといくつで8になるかな？



1 かずをかぞえて、□のなかにすうじをかきましょう。 1つ5てん (35)

●●●●○○○○

●が4 ○が 4

●○○○○○○○○

●が1 ○が 7

●●●●●●○○

●が7 ○が 1

●●○○○○○○

●が2 ○が 6

●●●●●○○○

●が5 ○が 3

●●●○○○○○

●が3 ○が 5

2 □のなかにすうじをかきましょう。 1つ5てん (65)

8は、

●○○○○○○○○ 1 と 7

●●○○○○○○○○ 2 と 6

●●●○○○○○○○ 3 と 5

●●●●○○○○○○ 4 と 4

●●●●●○○○○ 5 と 3

●●●●●○○○ 6 と 2

●●●●●●○○ 7 と 1


●●●●●●○○

●が6 ○が 2




数の構成 対象：1年生 ねらい：9が、何と何の数で出来ているか理解する。

てん



いくつといくつで9になるかな？



1 □ のなかにすうじをかきましょう。1つ5てん (65)

9 は,

●○○○○○○○○○	1	と	8	●●●●●○○○○○	5	と	4
●●○○○○○○○○○	2	と	7	●●●●●●○○○○○	6	と	3
●●●○○○○○○○○○	3	と	6	●●●●●●●○○○○○	7	と	2
●●●●○○○○○○○○○	4	と	5	●●●●●●●●○○○○○	8	と	1

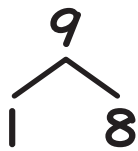
2 □ のなかにすうじをかきましょう。1つ5てん (35)

9 は,

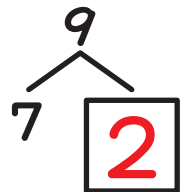


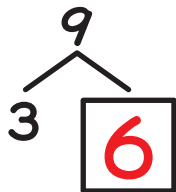
2	と	7	8	と	1	6	と	3	3	と	6
7	と	2	5	と	4	1	と	8	4	と	5

やってみよう!

□にはいるかずはなにかな？




9は、
1と8




数の構成 対象：1年生 ねらい：10が、何と何の数で出来ているか理解する。

てん



いくつといくつで10になるかな？



1 □ のなかにすうじをかきましょう。1つ5てん (60)

10 は、

●○○○○○○○○○○ と	9	●●●●●○○○○○○○	5	と	5
●●○○○○○○○○○○ 2 と	8	●●●●●●○○○○○○○	6	と	4
●●●○○○○○○○○○○ 3 と	7	●●●●●●●○○○○○○○	7	と	3
●●●●○○○○○○○○○○ 4 と	6	●●●●●●●●○○○○○○○	8	と	2
		●●●●●●●●●○○○○○○○	9	と	1

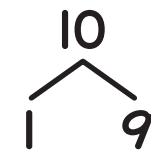
2 □ のなかにすうじをかきましょう。1つ5てん (40)

10 は、

6 と	4	9 と	1	7 と	3	5 と	5		
8 と	2	2 と	8	4 と	6	1 と	9	3 と	7

やってみよう!

□ にはいる かずはなにかな？



10 は、
1 と 9

