

数の構成 対象：1年生 ねらい：5が、何と何の数で出来ているか理解する。



いくつといくつで5になるかな？



1 あめのかずをかぞえて、□のなかにすうじをかきましょう。

|  |        |                                |    |   |                                |   |
|--|--------|--------------------------------|----|---|--------------------------------|---|
|  | ...  が | <input type="text" value="3"/> | こ, | が | <input type="text" value="2"/> | こ |
|  | ...  が | <input type="text" value="4"/> | こ, | が | <input type="text"/>           | こ |
|  | ...  が | <input type="text"/>           | こ, | が | <input type="text"/>           | こ |
|  | ...  が | <input type="text"/>           | こ, | が | <input type="text"/>           | こ |

2 □のなかにすうじをかきましょう。

|           |                                |   |                                |
|-----------|--------------------------------|---|--------------------------------|
| 5は、●○○○○○ | <input type="text" value="1"/> | と | <input type="text" value="4"/> |
| ●●○○○○    | <input type="text" value="2"/> | と | <input type="text"/>           |
| ●●●○○     | <input type="text"/>           | と | <input type="text"/>           |
| ●●●●○     | <input type="text"/>           | と | <input type="text"/>           |

**やってみよう!**

5は、1と4

□にはいるかずはなにかな？

5は、3と...

数の構成 対象：1年生 ねらい：6が、何と何の数で出来ているか理解する。

てん \_\_\_\_\_



いくつといくつで6になるかな？




1 あめのかずをかぞえて、□のなかにすうじをかきましょう。  
2つの数字が書けて正答 1つ10てん (50)



... が  こ, が  こ



... が  こ, が  こ



... が  こ, が  こ



... が  こ, が  こ



... が  こ, が  こ

2 □のなかにすうじをかきましょう。  
2つの数字が書けて正答 1つ10てん (50)

6は,

●○○○○○  と

●●●●○○  と

●●○○○○  と

●●●●●○  と

●●●○○○  と




数の構成 対象：1年生 ねらい：7が、何と何の数で出来ているか理解する。

てん \_\_\_\_\_



いくつといくつで7になるかな？



1 かずをかぞえて、□のなかにすうじをかきましょう。1つ10てん (50)

● ○ ○ ○ ○ ○ ○ ○  
 ● が 1 ○ が **6**

● ● ● ○ ○ ○ ○ ○ ○  
 ● が 3 ○ が □

● ● ● ● ● ● ● ○  
 ● が 6 ○ が □

● ● ● ● ○ ○ ○ ○  
 ● が 4 ○ が □

● ● ● ● ● ○ ○ ○  
 ● が 5 ○ が □

● ● ○ ○ ○ ○ ○ ○  
 ● が 2 ○ が □

2 □のなかにすうじをかきましょう。1つ5てん (50)

7は、

|                 |       |                 |       |
|-----------------|-------|-----------------|-------|
| ● ○ ○ ○ ○ ○ ○ ○ | 1 と □ | ● ● ● ● ○ ○ ○ ○ | □ と □ |
| ● ● ○ ○ ○ ○ ○ ○ | 2 と □ | ● ● ● ● ● ○ ○ ○ | □ と □ |
| ● ● ● ○ ○ ○ ○ ○ | □ と □ | ● ● ● ● ● ● ○ ○ | □ と □ |

やってみよう!

7  
 1 6

7は、1と6

7  
 3 □

7  
 2 □

7  
 5 □

□にはいるかずはなにかな？




数の構成 対象：1年生 ねらい：8が、何と何の数で出来ているか理解する。

てん



いくつといくつで8になるかな？



1 かずをかぞえて、□のなかにすうじをかきましょう。 1つ5てん (35)

●●●●○○○○

●が4 ○が □

●○○○○○○○○

●が1 ○が □

●●●●●●●○

●が7 ○が □

●●○○○○○○

●が2 ○が □

●●●●●○○○

●が5 ○が □

●●●○○○○○

●が3 ○が □

2 □のなかにすうじをかきましょう。 1つ5てん (65)

8は、

●○○○○○○○○ □と □

●●○○○○○○ □と □

●●●○○○○○ □と □

●●●●○○○○ □と □


●●●●●○○○ □と □

●●●●●○○ □と □


●●●●●●●○ □と □



数の構成 対象：1年生 ねらい：9が、何と何の数で出来ているか理解する。



いくつといくつで9になるかな？



1 □ のなかにすうじをかきましょう。1つ5てん (65)

9 は,

|              |   |   |   |             |   |   |   |
|--------------|---|---|---|-------------|---|---|---|
| ●○○○○○○○○○   | 1 | と | □ | ●●●●●○○○○○  | □ | と | □ |
| ●●○○○○○○○○○  | 2 | と | □ | ●●●●●●○○○○○ | □ | と | □ |
| ●●●○○○○○○○○○ | □ | と | □ | ●●●●●●●○○○  | □ | と | □ |
| ●●●●○○○○○○○  | □ | と | □ | ●●●●●●●●○   | □ | と | 1 |

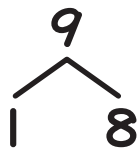
2 □ のなかにすうじをかきましょう。1つ5てん (35)

9 は,

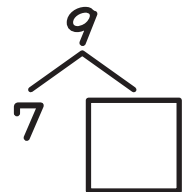
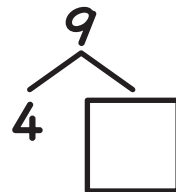

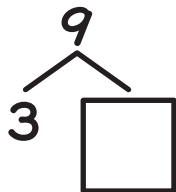
|       |       |       |       |
|-------|-------|-------|-------|
| 2 と 7 | 8 と □ | 6 と □ | 3 と □ |
| 7 と □ | 5 と □ | 1 と □ | 4 と □ |

やってみよう!

□ にはいる かずはなにかな？




9 は,  
1 と 8




数の構成 対象：1年生 ねらい：10が、何と何の数で出来ているか理解する。

てん



いくつといくつで10になるかな？



1 □ のなかにすうじをかきましょう。1つ5てん (60)

10 は,

|                    |                                |               |                                |   |                      |
|--------------------|--------------------------------|---------------|--------------------------------|---|----------------------|
| ●○○○○○○○○○○   と    | <input type="text" value="9"/> | ●●●●●○○○○○○   | <input type="text"/>           | と | <input type="text"/> |
| ●●○○○○○○○○○○ 2 と   | <input type="text"/>           | ●●●●●●○○○○○○  | <input type="text"/>           | と | <input type="text"/> |
| ●●●○○○○○○○○○○ 3 と  | <input type="text"/>           | ●●●●●●●○○○○○○ | <input type="text"/>           | と | <input type="text"/> |
| ●●●●○○○○○○○○○○ 4 と | <input type="text"/>           | ●●●●●●●●○○○○  | <input type="text"/>           | と | <input type="text"/> |
|                    |                                | ●●●●●●●●●○○   | <input type="text" value="9"/> | と | <input type="text"/> |

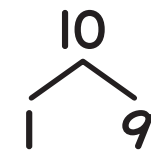
2 □ のなかにすうじをかきましょう。1つ5てん (40)

10 は,

|   |   |   |   |
|---|---|---|---|
| <input type="text" value="6"/> と <input type="text" value="4"/> | <input type="text" value="9"/> と <input type="text"/> | <input type="text" value="7"/> と <input type="text"/> | <input type="text" value="5"/> と <input type="text"/> |
| <input type="text" value="8"/> と <input type="text"/>           | <input type="text" value="2"/> と <input type="text"/> | <input type="text" value="4"/> と <input type="text"/> | <input type="text" value="1"/> と <input type="text"/> |
| <input type="text" value="3"/> と <input type="text"/>           |   |   |   |

やってみよう!

□にはいるかずはなにかな？



10は、  
1と9

