

数の構成 対象：1年生 ねらい：5が、何と何の数で出来ているか理解する。

てん
 1つ10てん



いくつといくつで5になるかな？



1 あめのかずをかぞえて、□のなかにすうじをかきましょう。

	... が	<input type="text" value="3"/>	こ,	が	<input type="text" value="2"/>	こ
	... が	<input type="text" value="4"/>	こ,	が	<input type="text"/>	こ
	... が	<input type="text"/>	こ,	が	<input type="text"/>	こ
	... が	<input type="text"/>	こ,	が	<input type="text"/>	こ

2 □のなかにすうじをかきましょう。

5は、●○○○○○	<input type="text" value="1"/>	と	<input type="text" value="4"/>
●●○○○○	<input type="text" value="2"/>	と	<input type="text"/>
●●●○○	<input type="text"/>	と	<input type="text"/>
●●●●○	<input type="text"/>	と	<input type="text"/>

やってみよう!

5は、1と4

□にはいるかずはなにかな？

5は、3と...

数の構成 対象：1年生 ねらい：6が、何と何の数で出来ているか理解する。

てん



いくつといくつで6になるかな？



1 あめのかずをかぞえて、□のなかにすうじをかきましょう。
2つの数字が書けて正答 1つ10てん(50)



... が こ, が こ




... が こ, が こ



... が こ, が こ



... が こ, が こ



... が こ, が こ

2 □のなかにすうじをかきましょう。2つの数字が書けて正答 1つ10てん(50)

6は,

と

と

と

と

と




1ねんせいのさんすう **なまえ**
いくつといくつ (3)

数の構成 対象：1年生 ねらい：7が、何と何の数で出来ているか理解する。



いくつといくつで7になるかな？



1 かずをかぞえて、□のなかにすうじをかきましょう。1つ10てん (50)

●○○○○○○○ ●が1 ○が 6	●●●○○○○○ ●が3 ○が □	●●●●●○○○ ●が6 ○が □
●●●●○○○ ●が4 ○が □	●●●●●○○○ ●が5 ○が □	●●○○○○○○○ ●が2 ○が □

2 □のなかにすうじをかきましょう。1つ5てん (50)

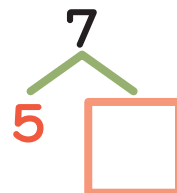
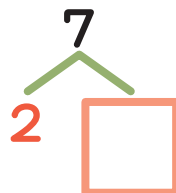
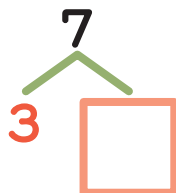
7は、

●○○○○○○○	1	と	□	●●●●○○○	□	と	□
●●○○○○○○○	2	と	□	●●●●●○○○	□	と	□
●●●○○○○○	□	と	□	●●●●●○○○	□	と	□

やってみよう!



7は、
1と6



□にはいる
かずはなにかな？




数の構成 対象：1年生 ねらい：8が、何と何の数で出来ているか理解する。

てん



いくつといくつで8になるかな？



1 かずをかぞえて、□のなかにすうじをかきましょう。1つ5てん (35)

●●●●○○○○	●○○○○○○○○	●●●●●●●○
●が4 ○が □	●が1 ○が □	●が7 ○が □
●●○○○○○○	●●●●●○○○	●●●○○○○○
●が2 ○が □	●が5 ○が □	●が3 ○が □

2 □のなかにすうじをかきましょう。

1つ5てん (65)

8は、

●○○○○○○○		と	□	
●●○○○○○○		と	□	●●●●●○○○
●●●○○○○○		と	□	●●●●●○○
●●●●○○○○		と	□	●●●●●●●○


●●●●●●○○
●が6 ○が □



数の構成 対象：1年生 ねらい：9が、何と何の数で出来ているか理解する。



いくつといくつで9になるかな？



1 □ のなかにすうじをかきましょう。1つ5てん (65)

9は、

●○○○○○○○○○	1	と	□	●●●●●○○○○○	□	と	□
●●○○○○○○○○○	2	と	□	●●●●●●○○○○○	□	と	□
●●●○○○○○○○○○	□	と	□	●●●●●●●○○○○○	□	と	□
●●●●●○○○○○○○	□	と	□	●●●●●●●●○○○	□	と	1

2 □ のなかにすうじをかきましょう。1つ5てん (35)

9は、

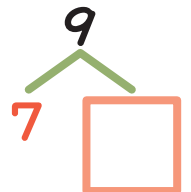
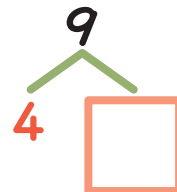
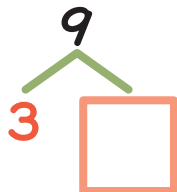
2と	7	8と	□	6と	□	3と	□
7と	□	5と	□	1と	□	4と	□

やってみよう!

□にはいるかずはなにかな？




9は、
1と8




1ねんせいのさんすう なまえ
いくつといくつ (6)

数の構成 対象：1年生 ねらい：10が、何と何の数で出来ているか理解する。



いくつといくつで10になるかな？



1 □ のなかにすうじをかきましょう。1つ5てん (60)

10 は、

●○○○○○○○○○ と	9	●●●●●○○○○○	□ と □
●●○○○○○○○○○ 2 と	□	●●●●●○○○○○	□ と □
●●●○○○○○○○○○ 3 と	□	●●●●●○○○○○	□ と □
●●●●○○○○○○○○○ 4 と	□	●●●●●○○○○○	□ と □
		●●●●●○○○○○	9 と □

2 □ のなかにすうじをかきましょう。1つ5てん (40)

10 は、

6 と 4	9 と □	7 と □	5 と □	
8 と □	2 と □	4 と □	1 と □	3 と □

やってみよう!

□にはいるかずはなにかな？



10は、
1と9

