


数の構成 対象：1年生 ねらい：6が、何と何の数で出来ているか理解する。

てん



いくつといくつで6になるかな？




1 あめのかずをかぞえて、□のなかにすうじをかきましょう。
2つの数字が書けて正答 1つ10てん (50)




... が こ,  が こ





... が こ,  が こ




... が こ,  が こ



... が こ,  が こ



... が こ,  が こ

2 □のなかにすうじをかきましょう。2つの数字が書けて正答 1つ10てん (50)

6は,

●○○○○○ と

●●●●○○ と

●●○○○○ と

●●●●●○ と

●●●○○○ と

