



数の構成 対象：1年生 ねらい：9が、何と何の数で出来ているか理解する。

てん



いくつといくつで9になるかな？



1 □ のなかにすうじをかきましょう。1つ5てん (65)

9 は,

●○○○○○○○○○	1	と	8	●●●●●○○○○○	5	と	4
●●○○○○○○○○○	2	と	7	●●●●●●○○○○○	6	と	3
●●●○○○○○○○○○	3	と	6	●●●●●●●○○○○○	7	と	2
●●●●○○○○○○○○○	4	と	5	●●●●●●●●○○○○○	8	と	1

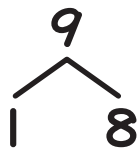
2 □ のなかにすうじをかきましょう。1つ5てん (35)

9 は,

2	と	7	8	と	1	6	と	3	3	と	6
7	と	2	5	と	4	1	と	8	4	と	5

やってみよう!

□にはいるかずはなにかな？



9は、
1と8

