



数の構成 対象：1年生 ねらい：9が、何と何の数で出来ているか理解する。



いくつといくつで9になるかな？



1 □ のなかにすうじをかきましょう。1つ5てん (65)

9 は,

●○○○○○○○○○	1	と	□	●●●●●○○○○○	□	と	□
●●○○○○○○○○○	2	と	□	●●●●●●○○○○○	□	と	□
●●●○○○○○○○○○	□	と	□	●●●●●●●○○○	□	と	□
●●●●○○○○○○○	□	と	□	●●●●●●●●○	□	と	1

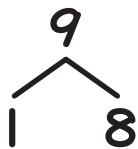
2 □ のなかにすうじをかきましょう。1つ5てん (35)

9 は,

2	と	7	8	と	□	6	と	□	3	と	□
7	と	□	5	と	□	1	と	□	4	と	□

やってみよう!

□にはいるかずはなにかな？



9は、
1と8

