



数の構成 対象：1年生 ねらい：10が、何と何の数で出来ているか理解する。

てん



いくつといくつで10になるかな？



1 □ のなかにすうじをかきましょう。1つ5てん (60)

10 は、

●○○○○○○○○○ と	9	●●●●●○○○○○	5 と	5
●●○○○○○○○○○ 2 と	8	●●●●●●○○○○○	6 と	4
●●●○○○○○○○○○ 3 と	7	●●●●●●●○○○○○	7 と	3
●●●●○○○○○○○○○ 4 と	6	●●●●●●●●○○○○○	8 と	2
		●●●●●●●●●○○○○○	9 と	1

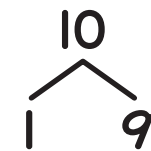
2 □ のなかにすうじをかきましょう。1つ5てん (40)

10 は、

6 と	4	9 と	1	7 と	3	5 と	5		
8 と	2	2 と	8	4 と	6	1 と	9	3 と	7

やってみよう!

□にはいるかずはなにかな？



10は、
1と9

