



数の構成 対象：1年生 ねらい：10が、何と何の数で出来ているか理解する。

てん _____



いくつといくつで10になるかな？



1 □ のなかにすうじをかきましょう。1つ5てん (60)

10 は,

●○○○○○○○○○○	1 と	□	●●●●●○○○○○○	□ と	□
●●○○○○○○○○○○	2 と	□	●●●●●●○○○○	□ と	□
●●●○○○○○○○○	3 と	□	●●●●●●●○○○	□ と	□
●●●●○○○○○○○○	4 と	□	●●●●●●●●○○	□ と	□
			●●●●●●●●●○	9 と	□

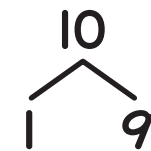
2 □ のなかにすうじをかきましょう。1つ5てん (40)

10 は,

6 と	□	9 と	□	7 と	□	5 と	□		
8 と	□	2 と	□	4 と	□	1 と	□	3 と	□

やってみよう!

□にはいるかずはなにかな？



10は、
1と9

