


数の構成 対象：1年生 ねらい：10に対しての補数を言えるようになる。



かくれているのはいくつかな？



1 が10こあります。

1つ10てん (80)

かくれているかすを のなかにすうじでかきましょう。

	...	<input type="text" value="3"/>
	...	<input type="text" value="4"/>
	...	<input type="text" value="1"/>
	...	<input type="text" value="6"/>
	...	<input type="text" value="9"/>
	...	<input type="text" value="2"/>
	...	<input type="text" value="7"/>
	...	<input type="text" value="5"/>
	...	<input type="text" value="8"/>

2 のなかにすうじをかきましょう。1つ10てん (20)


10 は, と と と

10をつくろう (2)

数の構成

対象：1年生 ねらい：10に対しての補数を言えるようになる。

てん



あといくつで10になるかな？



1 あといくつあれば  が10こになりますか。

のなかにすうじをかきましょう。1つ10てん (80)

	...	<input type="text" value="1"/>
	...	<input type="text" value="3"/>
	...	<input type="text" value="8"/>
	...	<input type="text" value="6"/>
	...	<input type="text" value="2"/>
	...	<input type="text" value="5"/>
	...	<input type="text" value="9"/>
	...	<input type="text" value="4"/>
	...	<input type="text" value="7"/>

2 のなかにすうじをかきましょう。1つ10てん (20)

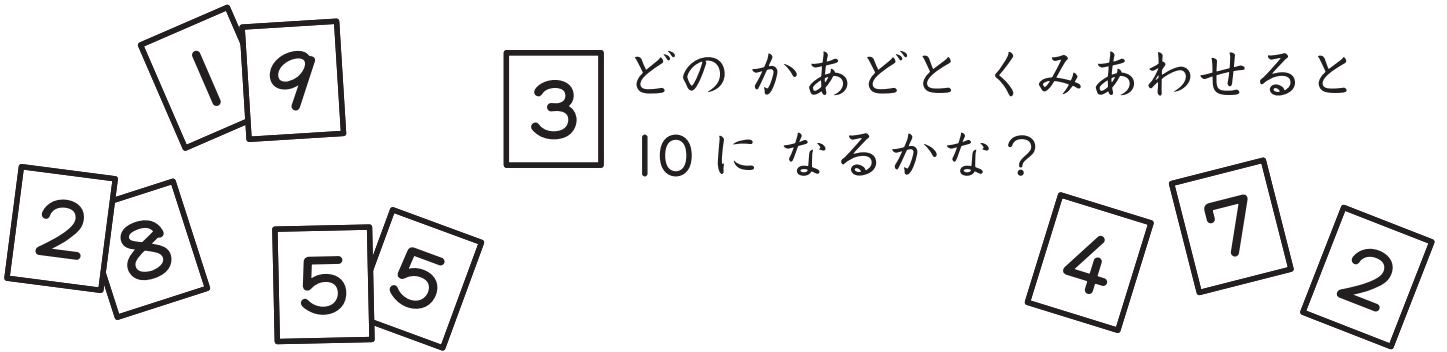
10は、と と と

10をつくろう (3)

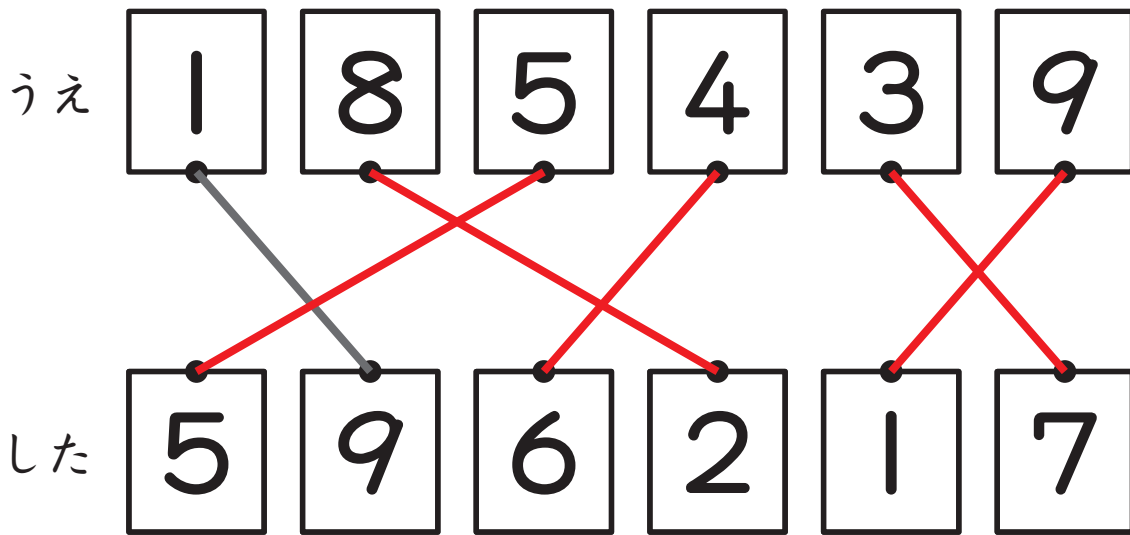
数の構成

対象：1年生 ねらい：2つの数で10を合成できるようにする。


てん



1 2まいで10になるように、うえの かあどと したの かあどを
せんで むすびましょう。1つ10てん (50)



2 2まいで10になるように、□の なかに すうじをかきましょう。
1つ10てん (50)

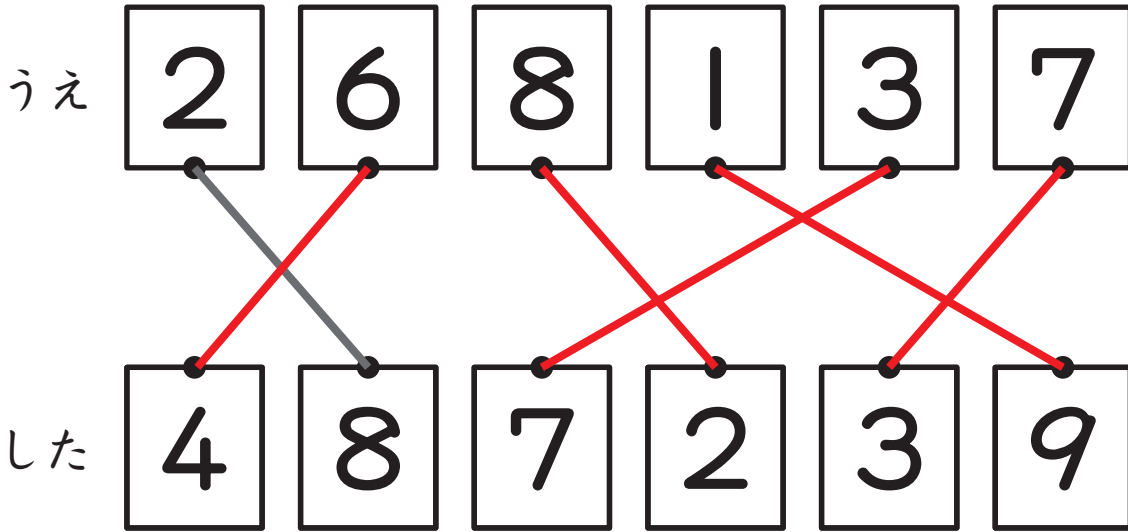


10をつくろう (4)


数の構成 対象：1年生 ねらい：2つの数で10を合成できるようにする。

てん

1 2まいで10になるように、うえのかあととしたのかあどを
せんでおすびましょう。1つ10てん (50)




2 2まいで10になるように、□のなかにすうじをかきましょう。
1つ10てん (50)



やってみよう!

□にはいるかずはなにかな?



10は、
5と5

