

1ねんせいのさんすう ぜんぶでいくつ(1)

なまえ

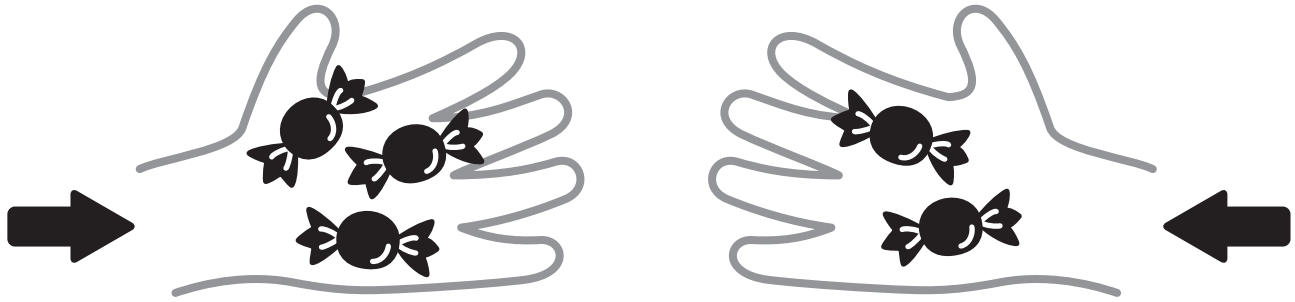
がつ にち

10までの足し算 対象：1年生 ねらい：和が10以内の2つの数を合併に、足し算を使えるようになる。

てん

あわせるといくつになるかな？

学習プリント無料ダウンロード
ちびむすドリル
©ちびむすドリル



●なぞりましょう。

しき $3 + 2 = 5$ こたえ 5 こ

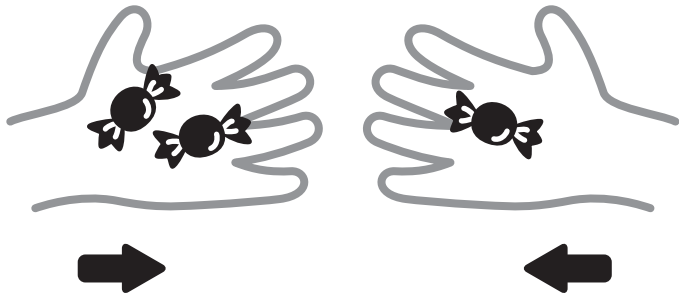
たす は

これは、たしざんだよ

1 2こと, 1こをあわせると, ぜんぶで3こになります。

しきをかきましょう。20てん



しき



$2 + 1 = 3$

こたえ 3 こ

2 あわせていくつになりますか。しきとこたえをかきましょう。
しき 20てん こたえ 20てん (80)



しき $1 + 3 = 4$

しき $4 + 1 = 5$

こたえ 4 ほん

こたえ 5 だい