

# 1ねんせいのさんすう **ぜんぶでいくつ(1)**

な  
ま  
え

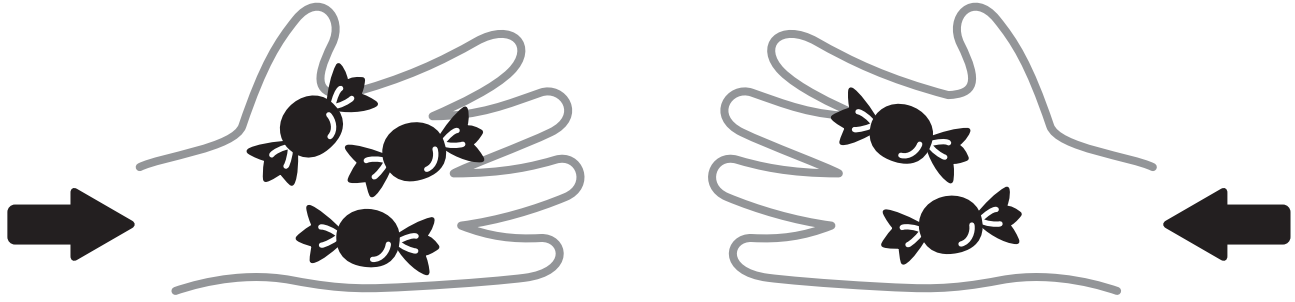
が  
つ に  
ち

**10までの足し算** 対象：1年生 ねらい：和が10以内の2つの数を合併に、足し算を使えるようになる。

てん

あわせるといくつになるかな？

学習プリント無料ダウンロード  
ちびむすドリル  
©ちびむすドリル



●なぞりましょう。

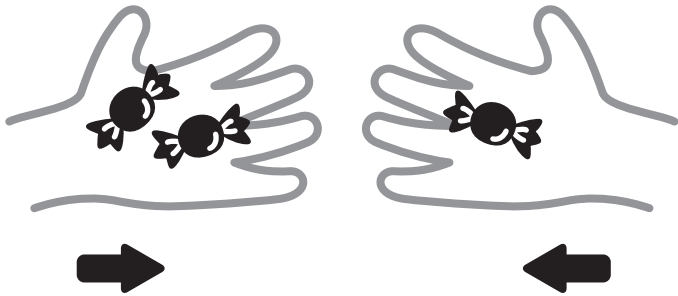
しき  $3 + 2 = 5$  こたえ  $5$  こ

たす は

**1** 2こと, 1こをあわせると, ぜんぶで3こになります。


しきをかきましょう。20てん

しき




こたえ  $3$  こ

**2** あわせていくつになりますか。しきとこたえをかきましょう。  
しき 20てん こたえ 20てん (80)



しき

こたえ                  ほん



しき

こたえ                  だい