

1ねんせいのさんすう ぜんぶでいくつ(1)

な
ま
え

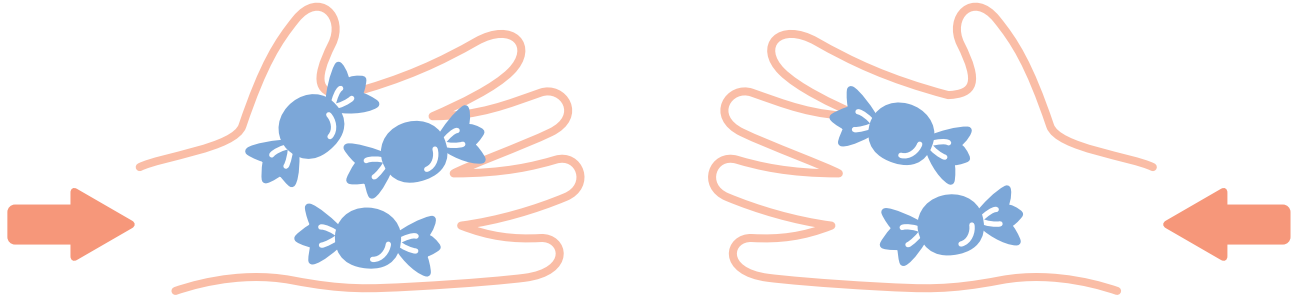
が
つ に
ち

10までの足し算 対象：1年生 ねらい：和が10以内の2つの数を合併に、足し算を使えるようになる。

て
ん

あわせるといくつになるかな？

学習プリント無料ダウンロード
ちびむすドリル
©ちびむすドリル



●なぞりましょう。

しき $3 + 2 = 5$ こたえ 5 こ

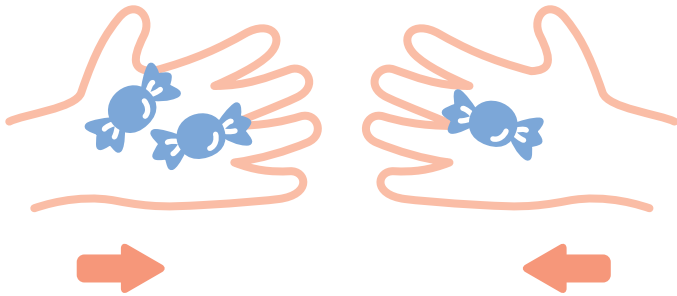
たす は

これは、たしざんだよ

1 2こと, 1こをあわせると, ぜんぶで3こになります。

しきをかきましょう。20てん


しき



こたえ 3 こ


2 あわせていくつになりますか。しきとこたえをかきましょう。

しき 20てん こたえ 20てん (80)



しき

こたえ ほん



しき

こたえ だい