

1ねんせいのさんすう ぜんぶでいくつ(1)

なまえ

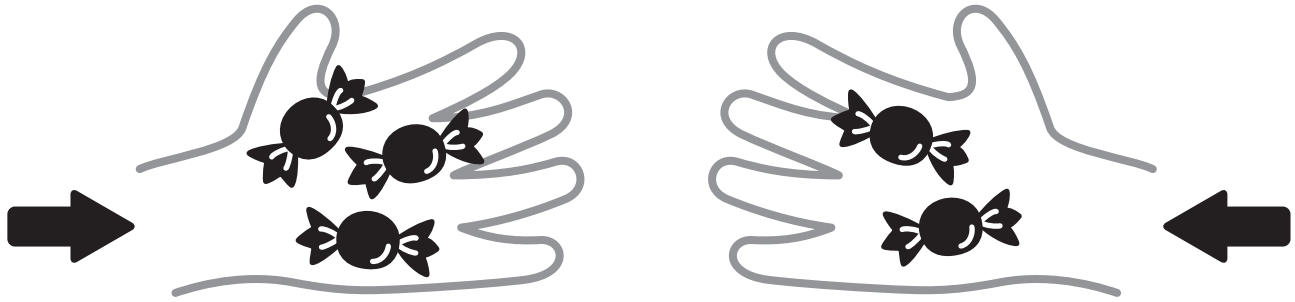
がつ にち

10までの足し算 対象：1年生 ねらい：和が10以内の2つの数を合併に、足し算を使えるようになる。

てん

あわせるといくつになるかな？

学習プリント無料ダウンロード
ちびむすドリル
©ちびむすドリル



●なぞりましょう。

しき $3 + 2 = 5$ こたえ 5 こ

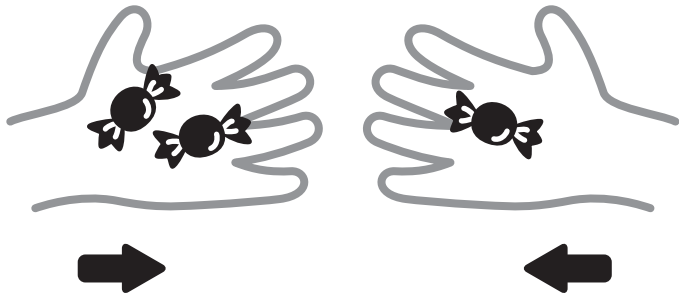
たす は

これは、たしざんだよ

1 2こと, 1こをあわせると, ぜんぶで3こになります。

しきをかきましょう。20てん



しき



$2 + 1 = 3$

こたえ 3 こ

2 あわせていくつになりますか。しきとこたえをかきましょう。
しき 20てん こたえ 20てん (80)



しき $1 + 3 = 4$

しき $4 + 1 = 5$


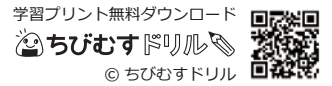
こたえ 4 ほん

こたえ 5 だい

1ねんせいのさんすう **ぜんぶでいくつ(2)** なまえ

10までの足し算 対象：1年生 ねらい：和が10以内の数の増加に、足し算を使えるようになる。

ふえるといくつになるかな？




●なぞりましょう。

しき $3 + 3 = 6$ たす は こたえ 6 こ

1 4こあります。2こふえると、ぜんぶで6こになります。

しきをかきましょう。20てん

しき




$4 + 2 = 6$

こたえ 6 こ

2 ふえるといくつになりますか。しきとこたえをかきましょう。
しき 20てん こたえ 20てん (80)

①



しき $2 + 3 = 5$

しき $6 + 2 = 8$

こたえ 5 ほん

こたえ 8 だい

1ねんせいのさんすう
ぜんぶでいくつ(3)

な
ま
え

がつ にち

10までの足し算 対象：1年生 ねらい：和が10以内の足し算が出来るようになる。問題文を読んで式を立て答えられるようになる。

てん

学習プリント無料ダウンロード
ちびむすドリル
©ちびむすドリル



1 たしざんをしましょう。1つ5てん (60)

<れい> $2 + 3 = 5$

① $4 + 2 = 6$

⑦ $6 + 2 = 8$

② $5 + 5 = 10$

⑧ $2 + 5 = 7$

③ $8 + 1 = 9$

⑨ $4 + 3 = 7$

④ $3 + 4 = 7$

⑩ $1 + 5 = 6$

⑤ $2 + 3 = 5$

⑪ $4 + 4 = 8$

⑥ $5 + 1 = 6$



⑫ $1 + 9 = 10$

2 おおきなりんごが4こあります。しき20てん
こたえ20てん (40)

ちいさなりんごが5こあります。

りんごはぜんぶでなんこありますか。

しきとこたえをかきましょう。



しき $4 + 5 = 9$

こたえ 9 こ

1ねんせいのさんすう
ぜんぶでいくつ(4)

な
ま
え

がつ 日にち

10までの足し算 対象：1年生 ねらい：和が10以内の足し算が出来るようになる。問題文を読んで式を立て答えられるようになる。

てん

学習プリント無料ダウンロード
ちびむすドリル
©ちびむすドリル



1 たしざんをしましょう。1つ5てん (60)

<れい> $6 + 2 = 8$

① $3 + 2 = 5$

⑦ $7 + 2 = 9$

② $8 + 2 = 10$

⑧ $2 + 5 = 7$

③ $1 + 1 = 2$

⑨ $5 + 3 = 8$

④ $4 + 2 = 6$

⑩ $6 + 2 = 8$

⑤ $3 + 6 = 9$

⑪ $4 + 5 = 9$

⑥ $9 + 1 = 10$

⑫ $3 + 4 = 7$

2 こびとが3にんいます。そこに4にんきました。しき20てん
こたえ20てん (40)

こびとはみんなでなんにんになりましたか。

しきとこたえをかきましょう。

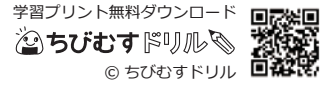


しき $3 + 4 = 7$

こたえ 7 にん

1ねんせいのさんすう **なまえ**
ぜんぶでいくつ(5)

10までの足し算 対象：1年生 ねらい：0を含む和が10以内の足し算が出来るようになる。



ぜんぶでいくつかな？



●なぞりましょう。

しき **4** たす **+** れい **0** は **4** こたえ **4** こ

1 ひだりのおさらのうえにあめが5こあります。しき 20てん
 こたえ 20てん (40)
 みぎのおさらにはあめがありません。
 あめはぜんぶでなんこありますか。
 しきとこたえをかきましょう。



しき **5 + 0 = 5**
 こたえ **5** こ

2 たしざんをしましょう。1つ10てん (60)

- | | |
|--------------------|--------------------|
| ① 2 + 7 = 9 | ④ 0 + 0 = 0 |
| ② 6 + 0 = 6 | ⑤ 3 + 2 = 5 |
| ③ 0 + 1 = 1 | ⑥ 9 + 0 = 9 |

やってみよう!

しきが、**3 + 2 = 5**
 になるもんだいをつくろう。



■したのしきになるもんだいも
 つくってみよう。

- | | |
|------------------|-------------------|
| 4 + 3 = 7 | 2 + 8 = 10 |
| 1 + 5 = 6 | 2 + 0 = 2 |