

# 1ねんせいのさんすう ぜんぶでいくつ(1)

なまえ

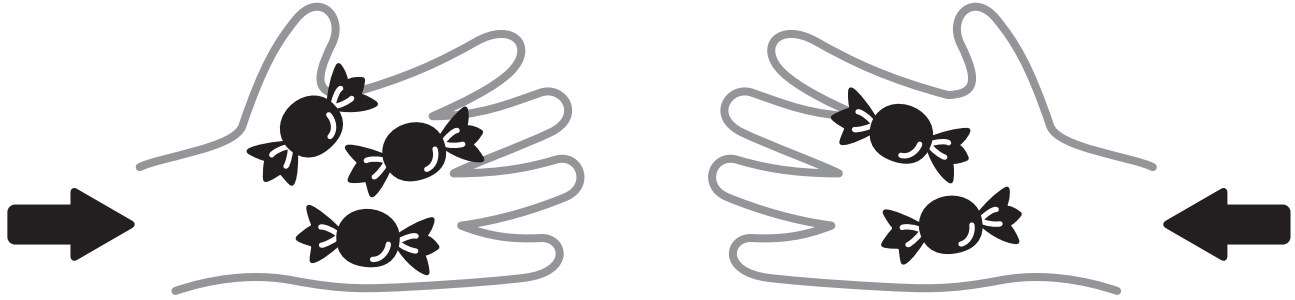
がつ にち

10までの足し算 対象：1年生 ねらい：和が10以内の2つの数を合併に、足し算を使えるようになる。

てん

あわせるといくつになるかな？

学習プリント無料ダウンロード  
ちびむすドリル  
©ちびむすドリル



●なぞりましょう。

しき  $3 + 2 = 5$  こたえ 5 こ

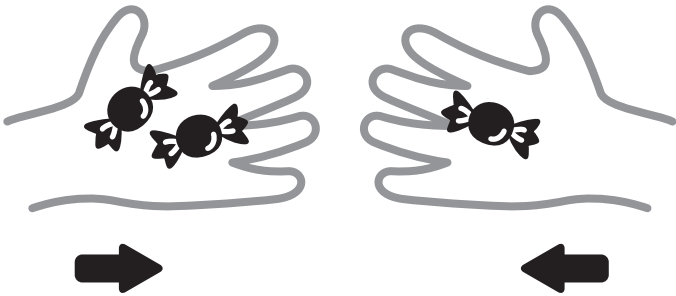
たす は

これは、たしざんだよ

1 2こと, 1こをあわせると, ぜんぶで3こになります。


しきをかきましょう。20てん

しき




こたえ 3 こ

2 あわせていくつになりますか。しきとこたえをかきましょう。  
しき 20てん こたえ 20てん (80)



しき

こたえ      ほん




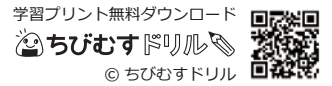
しき

こたえ      だい

1ねんせいのさんすう **ぜんぶでいくつ(2)** なまえ

10までの足し算 対象：1年生 ねらい：和が10以内の数の増加に、足し算を使えるようになる。

ふえるといくつになるかな？




●なぞりましょう。

しき  $3 + 3 = 6$  たす は こたえ 6 こ


1 4こあります。2こふえると、ぜんぶで6こになります。

しきをかきましょう。20てん しき




こたえ 6 こ

2 ふえるといくつになりますか。しきとこたえをかきましょう。  
しき20てん こたえ20てん (80)



しき

こたえ ほん

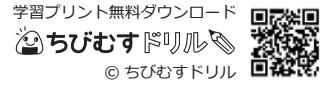


しき

こたえ だい

1ねんせいのさんすう なまえ  
ぜんぶでいくつ(3)

10までの足し算 対象：1年生 ねらい：和が10以内の足し算が出来るようになる。問題文を読んで式を立て答えられるようになる。



1 たしざんをしましょう。1つ5てん (60)

<れい>  $2 + 3 = 5$

①  $4 + 2$

⑦  $6 + 2$

②  $5 + 5$

⑧  $2 + 5$

③  $8 + 1$

⑨  $4 + 3$

④  $3 + 4$

⑩  $1 + 5$

⑤  $2 + 3$

⑪  $4 + 4$

⑥  $5 + 1$


⑫  $1 + 9$

2 おおきなりんごが4こあります。 しき20てん  
こたえ20てん (40)


ちいさなりんごが5こあります。

りんごはぜんぶでなんこありますか。

しきとこたえをかきましょう。



しき



こたえ

こ

1ねんせいのさんすう な  
ま  
え  
ぜんぶでいくつ(4)

がつ 日にち

10までの足し算 対象：1年生 ねらい：和が10以内の足し算が出来るようになる。問題文を読んで式を立て答えられるようになる。

てん

学習プリント無料ダウンロード  
ちびむすドリル  
© ちびむすドリル



1 たしざんをしましょう。1つ5てん (60)

<れい>  $6 + 2 = 8$

①  $3 + 2$

⑦  $7 + 2$

②  $8 + 2$

⑧  $2 + 5$

③  $1 + 1$

⑨  $5 + 3$

④  $4 + 2$

⑩  $6 + 2$

⑤  $3 + 6$

⑪  $4 + 5$


⑥  $9 + 1$

⑫  $3 + 4$

2 こびとが3にんいます。そこに4にんきました。しき 20てん  
こたえ 20てん (40)

こびとはみんなでなんにんになりましたか。

しきとこたえをかきましょう。



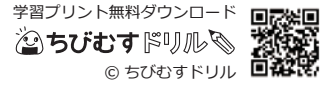
しき

こたえ

にん

1ねんせいのさんすう **ぜんぶでいくつ(5)** なまえ

10までの足し算 対象：1年生 ねらい：0を含む和が10以内の足し算が出来るようになる。



ぜんぶでいくつかな？



●なぞりましょう。

しき 4 + 0 = 4 たす れい は こたえ 4 こ

1 ひだりのおさらのうえにあめが5こあります。 しき 20てん  
こたえ 20てん (40)

みぎのおさらにはあめがありません。

あめはぜんぶでなんこありますか。

しきとこたえをかきましょう。

しき こたえ            こ

2 たしざんをしましょう。1つ10てん (60)

- |         |         |
|---------|---------|
| ① 2 + 7 | ④ 0 + 0 |
| ② 6 + 0 | ⑤ 3 + 2 |
| ③ 0 + 1 | ⑥ 9 + 0 |

やってみよう!

しきが、 $3 + 2 = 5$   
になるもんだいをつくろう。



■したのしきになるもんだいもつくってみよう。

- |             |              |
|-------------|--------------|
| $4 + 3 = 7$ | $2 + 8 = 10$ |
| $1 + 5 = 6$ | $2 + 0 = 2$  |