

1ねんせいのさんすう ぜんぶでいくつ(1)

な
ま
え

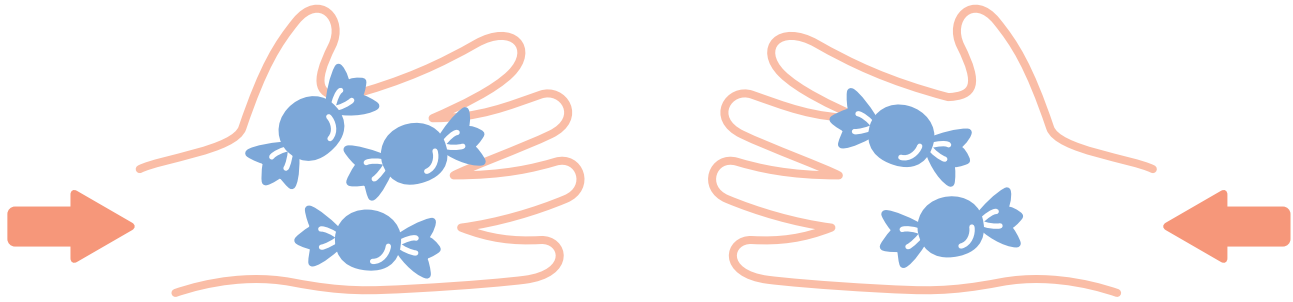
が
つ に
ち

10までの足し算 対象：1年生 ねらい：和が10以内の2つの数を合併に、足し算を使えるようになる。

て
ん

あわせるといくつになるかな？

学習プリント無料ダウンロード
ちびむすドリル
©ちびむすドリル



●なぞりましょう。

しき $3 + 2 = 5$ こたえ 5 こ

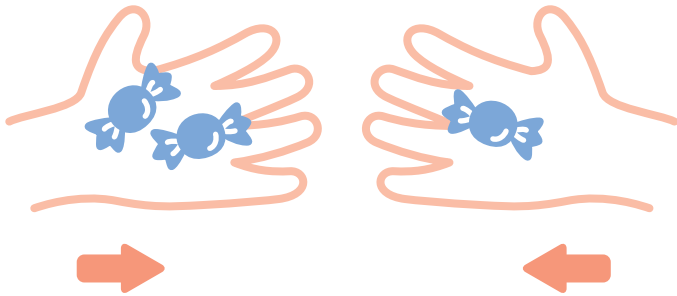
たす は

これは、たしざんだよ

1 2こと, 1こをあわせると, ぜんぶで3こになります。

しきをかきましょう。20てん


しき



こたえ 3 こ


2 あわせていくつになりますか。しきとこたえをかきましょう。

しき 20てん こたえ 20てん (80)



しき

こたえ ほん



しき

こたえ だい

1ねんせいのさんすう ぜんぶでいくつ(2)

なまえ

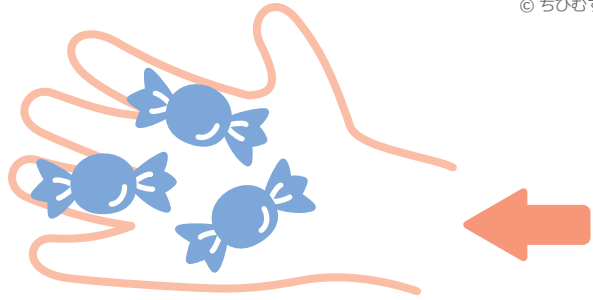

がつ にち

10までの足し算 対象：1年生 ねらい：和が10以内の数の増加に、足し算を使えるようになる。

てん

ふえるといくつになるかな？

学習プリント無料ダウンロード
ちびむすドリル
©ちびむすドリル



●なぞりましょう。

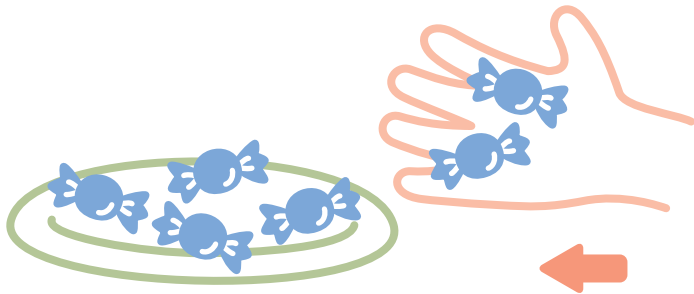
しき $3 + 3 = 6$ こたえ 6 こ

たす は

これも、たしざんだ!


1 4こあります。2こふえると、ぜんぶで6こになります。

しきをかきましょう。20てん




こたえ 6 こ

2 ふえるといくつになりますか。しきとこたえをかきましょう。
しき20てん こたえ20てん (80)



しき

こたえ ほん



しき

こたえ だい

1ねんせいのさんすう
ぜんぶでいくつ(3)

な
ま
え

が
つ に
ち

10までの足し算 対象：1年生 ねらい：和が10以内の足し算が出来るようになる。問題文を読んで式を立て答えられるようになる。

て
ん

学習プリント無料ダウンロード

ちびむすドリル

© ちびむすドリル



1 たしざんをしましょう。1つ5てん (60)

<れい> $2 + 3 = 5$

① $4 + 2$

⑦ $6 + 2$

② $5 + 5$

⑧ $2 + 5$

③ $8 + 1$

⑨ $4 + 3$

④ $3 + 4$

⑩ $1 + 5$

⑤ $2 + 3$

⑪ $4 + 4$

⑥ $5 + 1$



⑫ $1 + 9$

2 おおきなりんごが4こあります。しき20てん
こたえ20てん (40)

ちいさなりんごが5こあります。

りんごはぜんぶでなんこありますか。

しきとこたえをかきましょう。



しき

こたえ

こ

1ねんせいのさんすう ぜんぶでいくつ(4)

な
ま
え

が
つ に
ち

10までの足し算 対象：1年生 ねらい：和が10以内の足し算が出来るようになる。問題文を読んで式を立て答えられるようになる。

て
ん

学習プリント無料ダウンロード

ちびむすドリル

© ちびむすドリル



1 たしざんをしましょう。1つ5てん (60)

<れい> $6 + 2 = 8$

① $3 + 2$

⑦ $7 + 2$

② $8 + 2$

⑧ $2 + 5$

③ $1 + 1$

⑨ $5 + 3$

④ $4 + 2$

⑩ $6 + 2$

⑤ $3 + 6$

⑪ $4 + 5$

⑥ $9 + 1$

⑫ $3 + 4$

2 こびとが3にんいます。そこに4にんきました。しき 20てん
こたえ 20てん (40)

こびとはみんなでなんにんになりましたか。

しきとこたえをかきましょう。



しき

こたえ

にん

1ねんせいのさんすう

ぜんぶでいくつ(5)

な
ま
え

がつ にち

10までの足し算 対象：1年生 ねらい：0を含む和が10以内の足し算が出来るようになる。

てん


学習プリント無料ダウンロード

ちびむすドリル

©ちびむすドリル



ぜんぶでいくつかな？




●なぞりましょう。

しき $4 + 0 = 4$ こたえ 4 こ

たす れい は

1 ひだりのおさらのうえにあめが5こあります。しき 20てん
みぎのおさらにはあめがありません。こたえ 20てん (40)
あめはぜんぶでなんこありますか。
しきとこたえをかきましょう。



こたえ こ

2 たしざんをしましょう。1つ10てん (60)

① $2 + 7$

④ $0 + 0$

② $6 + 0$

⑤ $3 + 2$

③ $0 + 1$

⑥ $9 + 0$

やってみよう!

しきが、 $3 + 2 = 5$
になるもんだいをつくろう。



■したのしきになるもんだいも
つくってみよう。

$4 + 3 = 7$ $2 + 8 = 10$

$1 + 5 = 6$ $2 + 0 = 2$