

# 1ねんせいのさんすう ぜんぶでいくつ(2)

なまえ


がつ にち

10までの足し算 対象：1年生 ねらい：和が10以内の数の増加に、足し算を使えるようになる。

てん

ふえるといくつになるかな？

学習プリント無料ダウンロード  
ちびむすドリル  
©ちびむすドリル



●なぞりましょう。

しき  $3 + 3 = 6$  こたえ 6 こ


たす は

これも、たしざんだ!

1 4こあります。2こふえると、ぜんぶで6こになります。

しきをかきましょう。20てん

しき



$4 + 2 = 6$


こたえ 6 こ

2 ふえるといくつになりますか。しきとこたえをかきましょう。  
しき20てん こたえ20てん (80)

①



②



しき  $2 + 3 = 5$

しき  $6 + 2 = 8$

こたえ 5 ほん

こたえ 8 だい