

1ねんせいのさんすう ぜんぶでいくつ(2)

なまえ


がつ にち

10までの足し算 対象：1年生 ねらい：和が10以内の数の増加に、足し算を使えるようになる。

てん

ふえるといくつになるかな？

学習プリント無料ダウンロード
ちびむすドリル
©ちびむすドリル



●なぞりましょう。

しき $3 + 3 = 6$ こたえ 6 こ


たす は

これも、たしざんだ!

1 4こあります。2こふえると、ぜんぶで6こになります。

しきをかきましょう。20てん

しき



こたえ 6 こ

2 ふえるといくつになりますか。しきとこたえをかきましょう。
しき20てん こたえ20てん (80)


①



しき

こたえ ほん

②



しき

こたえ だい