

1ねんせいのさんすう ぜんぶでいくつ(2)

なまえ

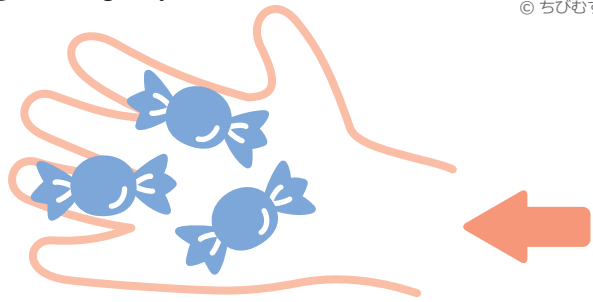

がつ にち

10までの足し算 対象：1年生 ねらい：和が10以内の数の増加に、足し算を使えるようになる。

てん

ふえるといくつになるかな？

学習プリント無料ダウンロード
ちびむすドリル
©ちびむすドリル



●なぞりましょう。

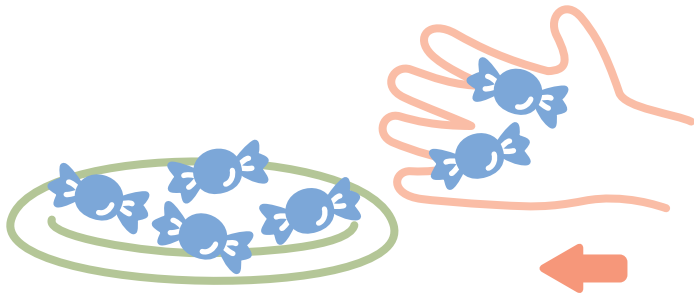
しき $3 + 3 = 6$ こたえ 6 こ

たす は

これも、たしざんだ！


1 4こあります。2こふえると、ぜんぶで6こになります。

しきをかきましょう。20てん




こたえ 6 こ

2 ふえるといくつになりますか。しきとこたえをかきましょう。
しき20てん こたえ20てん (80)



しき

こたえ ほん



しき

こたえ だい