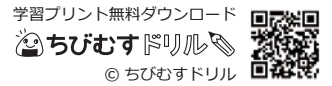


1ねんせいのさんすう なまえ
ぜんぶでいくつ(3)

10までの足し算 対象：1年生 ねらい：和が10以内の足し算が出来るようになる。問題文を読んで式を立て答えられるようになる。



1 たしざんをしましょう。1つ5てん (60)

<れい> $2 + 3 = 5$

① $4 + 2$

⑦ $6 + 2$

② $5 + 5$

⑧ $2 + 5$

③ $8 + 1$

⑨ $4 + 3$

④ $3 + 4$

⑩ $1 + 5$

⑤ $2 + 3$

⑪ $4 + 4$

⑥ $5 + 1$


⑫ $1 + 9$

2 おおきなりんごが4こあります。 しき20てん
こたえ20てん (40)


ちいさなりんごが5こあります。

りんごはぜんぶでなんこありますか。

しきとこたえをかきましょう。



しき



こたえ こ