

1ねんせいのさんすう
のこりはいくつ(1)

な
ま
え

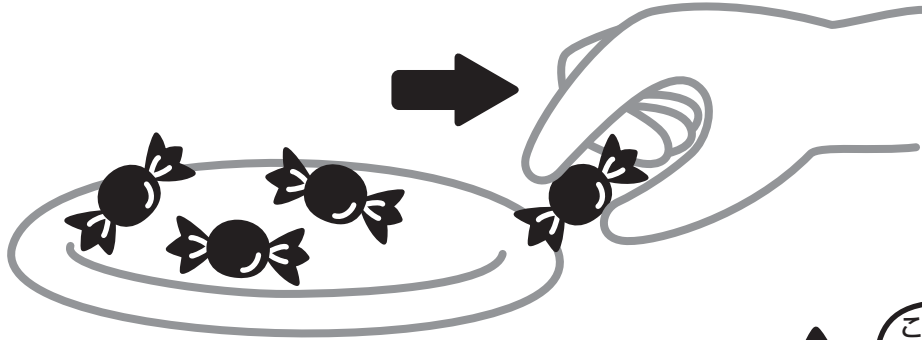
が
つ に
ち

10までの引き算 対象：1年生 ねらい：10以内の数から、残りを求めるのに、引き算を使えるようになる。

てん

のこりはいくつになるかな？

学習プリント無料ダウンロード
ちびむすドリル
© ちびむすドリル



● なぞりましょう。

しき $4 - 1 = 3$

ひく は



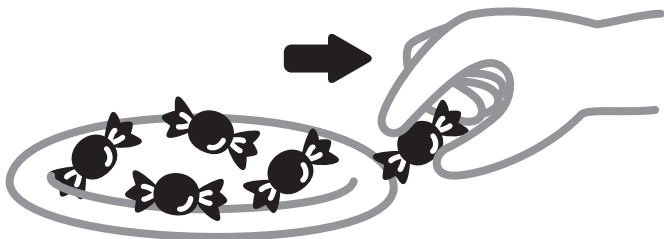
こたえ 3 こ

1 5こから、1ことると、のこりは4こになります。

しきをかきましょう。^{20てん}


しき

$5 - 1 = 4$



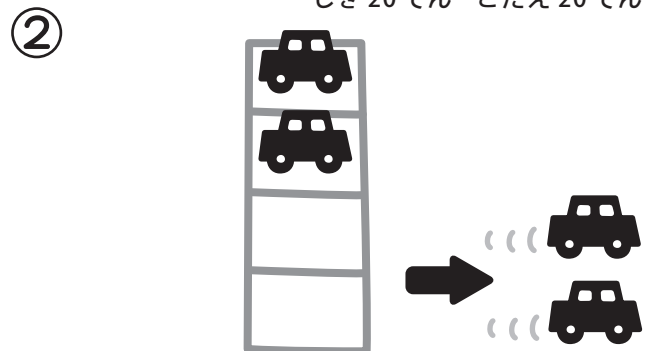
こたえ 4 こ

2 のこりはいくつになりますか。しきとこたえをかきましょう。
しき20てん こたえ20てん (80)



しき $5 - 3 = 2$

こたえ 2 ほん



しき $4 - 2 = 2$

こたえ 2 だい