

1ねんせいのさんすう  
のこりはいくつ(1)

な  
ま  
え

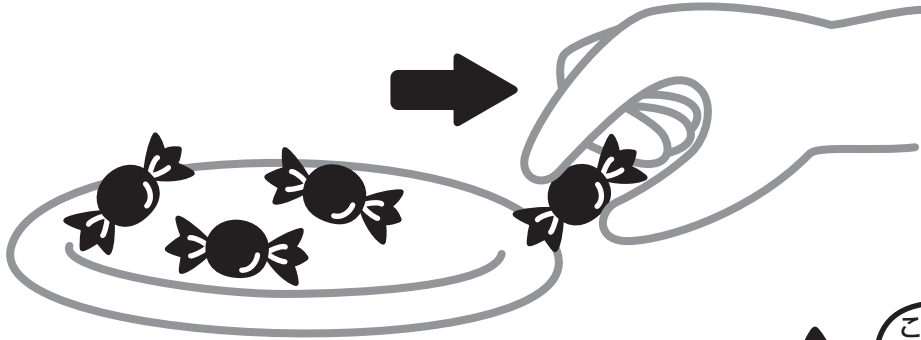
が  
つ に  
ち

10までの引き算 対象：1年生 ねらい：10以内の数から、残りを求めるのに、引き算を使えるようになる。

てん

のこりはいくつになるかな？

学習プリント無料ダウンロード  
ちびむすドリル  
© ちびむすドリル



● なぞりましょう。



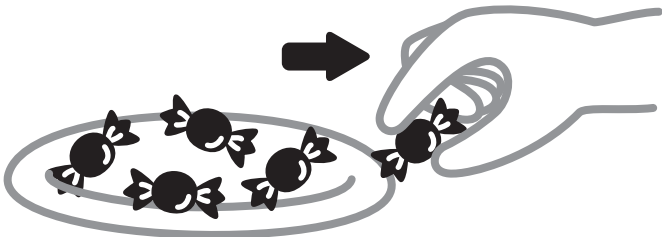
しき  $4 - 1 = 3$

ひく は

こたえ 3 こ


1 5こから、1ことると、のこりは4こになります。

しきをかきましょう。<sup>20てん</sup> しき



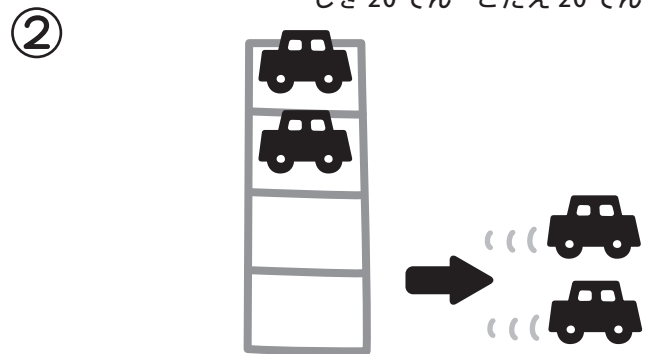
こたえ 4 こ

2 のこりはいくつになりますか。しきとこたえをかきましょう。  
しき20てん こたえ20てん (80)



しき

こたえ      ほん



しき

こたえ      だい