

# 1ねんせいのさんすう のこりはいくつ(1)

な  
ま  
え

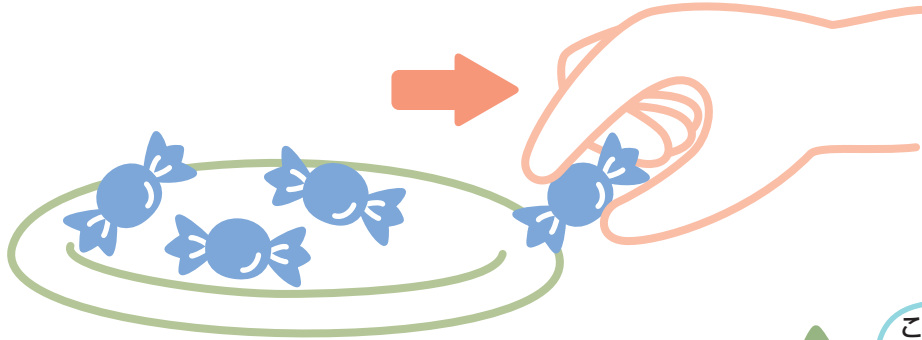
が  
つ に  
ち

10までの引き算 対象：1年生 ねらい：10以内の数から、残りを求めるのに、引き算を使えるようになる。

てん

のこりはいくつになるかな？

学習プリント無料ダウンロード  
ちびむすドリル  
© ちびむすドリル



● なぞりましょう。

しき  $4 - 1 = 3$

ひく は

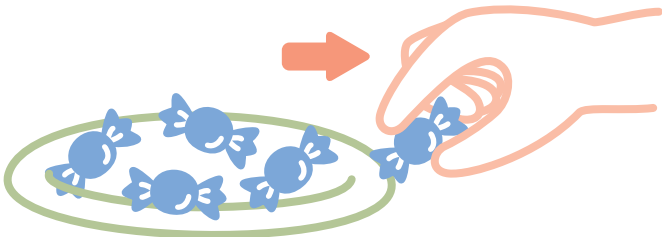


これは、ひきざんだよ

こたえ 3 こ

1 5こから、1ことると、のこりは4こになります。


しきをかきましょう。<sup>20てん</sup> しき



こたえ 4 こ


2 のこりはいくつになりますか。しきとこたえをかきましょう。

しき 20てん こたえ 20てん (80)



しき

こたえ ほん



しき

こたえ だい